


Exómen diagnóístico



Asignatura	Reactivos	Aciertos	Calificación
Español			
Matemáticas			
Conocimiento del Medio			

Firma del padre o tutor.

20 primaria

Nombre del alumno: _____


Grado: _____ Grupo: _____

ESPAÑOL

1. Lee atentamente la lectura y contesta las siguientes preguntas.

"El delfín de agua dulce"

El delfín rosa o de río es una especie que vive exclusivamente en los ríos y lagunas de agua dulce del Amazonas; posee un cuerpo largo y de color rosa, un pico largo con la línea de la boca curva y en dirección a los ojos; lo que le atribuye una sonrisa permanente. Se alimenta de peces pequeños y algunos moluscos, siempre está dando piruetas fuera del agua.



a. ¿Cuál es el título del texto?


b. ¿Dónde vive el delfín que se menciona en el texto?

c. ¿Cuál es la expresión del delfín?

d. ¿De qué se alimenta el delfín rosado?

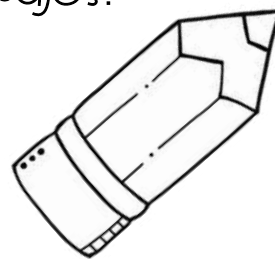

e. ¿Qué hace fuera del agua el delfín?

2. Inventa tres nombres propios para cada niño.



--	--	--	--

3. Colorea el nombre correcto de los siguientes dibujos.



uevo

huevo



girasol

jirasol

lápiz

lápiz

4. Escribe palabras que rimen con los siguientes dibujos.



5. Escribe de forma correcta las palabras que llevan mayúscula.

méxico

limón


federico


jirafa

--	--	--	--

6. Escribe dos adjetivos para describir los siguientes dibujos.







7. Observa y separa las palabras para formar una oración.

a. Mimamáhorneógalletasdechocolate.

b. Emilianojuegatodaslastardesconsuperro.



8. Completa las palabras.



	res
--	-----



co	
----	--



	ja
--	----



	bol
--	-----

9. Escribe una oración utilizando las siguientes palabras.

escribe

piensa

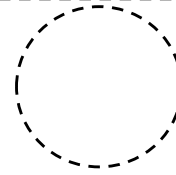
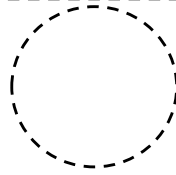
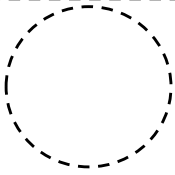

MATEMÁTICAS

1. Observa y cuenta el dinero que tiene cada niño.




Matías

Camila

Alexis



2. Observa el precio de los productos y responde las preguntas.




Si Ana tenía \$50 y compró una bolsa de palomitas. ¿Cuánto dinero le sobró?

Si Ana y Pepe compraron unas papas a la francesa y dos helados. ¿Cuánto dinero pagaron en total?


Si Pepe tenía \$100 y compró una caja de cereal. ¿Cuánto dinero le sobró?

3. Completa la secuencia.

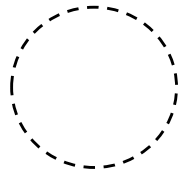


5	10		20		30			45	
---	----	--	----	--	----	--	--	----	--

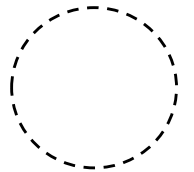
4. Observa y encierra de 10 en 10; después escribe ¿cuántos hay?.



¿Cuántos son?



¿Cuántos quedaron sin encerrar?



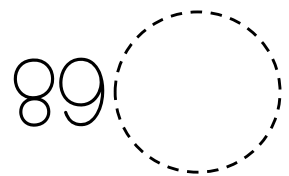
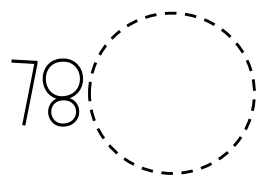
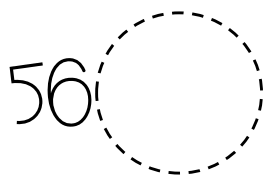
5. Escribe 2 sumas que te den como resultado 100.

___ + ___ = 100 ___ + ___ = 100

6. Escribe 2 restas que te den como resultado 50.

___ - ___ = 50 ___ - ___ = 50

7. Escribe que número obtienes si le sumas 10 a cada cifra.

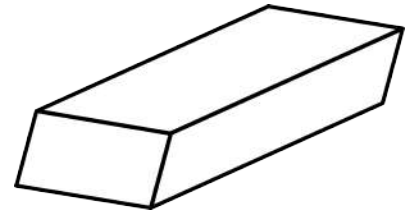
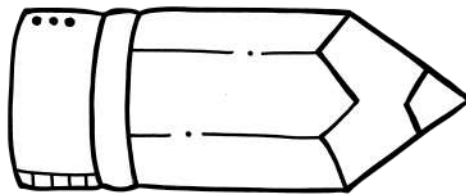


8. Ordena las siguientes cantidades de menor a mayor.

208	39	76	108	99	306
-----	----	----	-----	----	-----

○ ○ ○ ○ ○ ○

9. Encierra con verde el instrumento que te sirve para medir el escritorio de tu maestra.



10. Representa las siguientes cantidades, toma en cuenta la clave.

Unidades: azul

Decenas: rojo

57 ○ ○ ○ ○ ○ ○ ○ ○ ○ ○ ○ ○

28 ○ ○ ○ ○ ○ ○ ○ ○ ○ ○ ○ ○

73 ○ ○ ○ ○ ○ ○ ○ ○ ○ ○ ○ ○

11. Escribe con letra el nombre de las siguientes cifras.

256 _____

816 _____

321 _____

Conocimiento del medio

1. Une cada órgano con el sentido que le corresponde.




olfato	vista	gusto	tacto	oído
--------	-------	-------	-------	------

2. Colorea aquéllos alimentos que son saludables.



3. Escribe el nombre de los días de la semana en los que asistes a la escuela.






4. Escribe dos actividades que realizas durante.

Durante la
mañana




Durante la
tarde

Durante la
noche


-----	-----	-----
-----	-----	-----
-----	-----	-----
-----	-----	-----
-----	-----	-----
-----	-----	-----



5. Tacha las fuentes que generan luz artificial.



6. Escribe ¿por qué es importante que en tu familia existan acuerdos de convivencia?



7. Dibuja un objeto que esté elaborado con cada uno de los siguientes materiales.


plástico

vidrio

madera

papel

8. Dibuja y escribe una acción que llevas a cabo para cuidar el medio ambiente.



Créditos

Gracias por compartir
su talento



© Material Didáctico Rayitas

Todos los derechos reservados por el autor.

www.materialdidacticorayitas.com