

Examen de Diagnostico



3



CICLO ESCOLAR 2021-2022

Nombre del alumno

Grado

Grupo

Fecha

Nombre de la escuela

DINO MATERIALES



MATERIA	REACTIVOS	ACIERTOS	CALIFICACION
ESPAÑOL			
MATEMATICAS			
CIENCIAS NATURALES			
FORMACION CIVICA Y ETICA			
TOTAL			

Firma del padre
o tutor



Lee con mucha atención el siguiente texto y después contesta las preguntas.

La abeja y la paloma



Cierto día muy caluroso, una paloma se detuvo a descansar sobre la rama de un árbol, al lado del cual estaba un río. De pronto, vio una abeja que se acercó para beber agua, pero la fuerza del río, arrastró a la pobrecita abeja. La paloma al verla en tal aprieto, voló hacia ella y la salvó con su pico. Pasado un rato, un cazador vio a la paloma descansando, y se dispuso a cazarla. Sin embargo, en aquel mismo instante, la abeja vio en peligro a la paloma que le salvó la vida, así que de inmediato acudió a su rescate y picó la mano del cazador. El dolor fue tan fuerte, que al sacudir su mano, falló su tiro, y con ello, logró escapar a tiempo la paloma.

Subraya con color la respuesta correcta.

1.- El texto que acabas de leer es:

- a) Un cuento.
- b) Una historieta.
- c) Una fábula.
- d) Un poema.

2.- ¿En qué lugar estaba la paloma?

- a) En un árbol cerca de un lago.
- b) En el desierto.
- c) En un árbol cerca del pantano.
- d) En un árbol cerca de un río.



3.- ¿Por qué logró escapar la paloma?

- a) El cazador tenía mala puntería.
- b) La abeja le avisó a la paloma que el cazador la quería matar.
- c) El cazador falló su disparo.
- d) El cazador no pudo disparar.

4.- Señala cuál es la moraleja.

- a) No es bueno cazar palomas, porque te pueden picar las abejas.
- b) Los piquetes de las abejas duelen mucho.
- c) Haz por otros, lo que quisieras que ellos hagan por ti.
- d) Las abejas son muy peligrosas.

5. Escribe en los círculos "L" si es un texto literario o "I" si es informativo.



6. ¿Qué adjetivos calificativos son adecuados para describir a un elefante?



- Grande, robusto y fuerte.
- Inteligente, gracioso y tragón
- Pequeño, delgado y simpático.



7-12. Ordena las palabras alfabéticamente



volcán



hamburguesa



uvas



aguacate



manzana



xilófono

aguacate

hamburguesa

manzana

uvas

volcán

xilófono



13-15. Ordena las palabras para formar oraciones.

escucha de las en el campo El palomas canto todo se

El canto de las palomas se escucha en el campo

abejas el néctar Las fabrican con miel

Las abejas fabrican miel con el néctar

vacas pasto Las monte. en el comen

Las vacas comen pasto en el monte

16-17. Realiza una descripción para cada dibujo.



18. Escribe un instructivo para ponerte los zapatos.



Lee con mucha atención las siguientes rimas.



Una guacamaya pinta
le dijo a una colorada
vámonos para mi tierra
a pasar la temporada.



Vuela, vuela palomita
vuela, vuela al palomar,
no te vayas tan solita,
yo te quiero acompañar.

19-21. Encuentra y une con una línea de diferente color los tres pares de palabras que riman.

colorada

solita

vela

palomar

acompañar

temporada

palomita

pinta

guacamaya





22-24. Escribe 2 palabras que rimen con las siguientes:



paleta



cuchillo



pecera

25. Circula la imagen que corresponde con un **Acta de Nacimiento**.

ESQUEMA DE VACUNACION				
VACUNA	ESQUEMA DE VACUNACION	EDAD	TIPO DE VACUNA	TIPO DE VACUNACION
BCG	TUBERCULOSIS	0000	04-06-08	
HEPATITA B	HEPATITA B	0000	04-06-08	
		0000	04-06-08	
DIFTERIA, TETANOS Y TOSINA	DIFTERIA, TETANOS Y TOSINA	0000	00-00-00	
		0000	00-00-00	
		0000	00-00-00	
		0000	00-00-00	
OPV	DIFTERIA, TETANOS Y TOSINA	0000	00-00-00	
		0000	00-00-00	



26-30. Completa los siguientes nombres de las imágenes



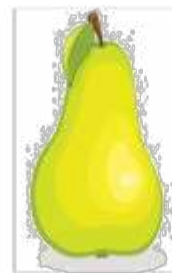
pe_rro



zo_rro



ce_ro



pe_ra



ca_rro

MATEMATICAS



1-3. Calcula cuántas piezas hay en cada caso



Si hay 6 recipientes como este, ¿Cuántas sandías hay en total?




Si hay 7 bolsas como esta, ¿Cuántas canicas hay en total?



Si hay 9 pencas como esta, ¿Cuántos plátanos hay en total?

4-5. Observa el precio de los siguientes artículos y responde las preguntas.



¿Cuál es el precio correcto del siguiente artículo?
Anótalo con letra y numero



Treinta y cinco

35

¿Cuántos pesos pagó Daniela si compró lo siguiente?

145 pesos



6-9. Resuelve los siguientes problemas

Don Alfonso compró 40 lápices para repartirlos en partes iguales entre sus 5 nietos. ¿De cuántos lápices le tocaron a cada uno? 8



Antonio desea comprar 3 cajas de colores. ¿Cuánto dinero le hace falta si sólo tiene 29 pesos? 15



¿Cuánto se pagará si se compran 6 lápices y 4 lapiceras? 130

Ana compró una libreta. ¿Cuánto dinero le sobró si tenía 70 pesos? 20



10-12. Andrea, Luis, Pablo y Rosalba fueron a la papelería a comprar sus útiles escolares. Observa lo que gastó cada uno.

Andrea



\$ 181

Luis



\$ 239

Pablo



\$ 179

Rosalba



\$ 253

¿Quién gastó más en útiles escolares? Rosalba

¿Quién gastó menos? Pablo

Si Luis llevaba 3 billetes de 100 pesos. ¿Cuánto dinero le sobró? 61 pesos

13-15. Observa con mucha atención el siguiente calendario.

JULIO						
L	M	Mi	J	V	S	D
1	2	3	4	5	6	7
8	9	10	11	12	13	14
15	16	17	18	19	20	21
22	23	24	25	26	27	28
29	30	31				

AGOSTO						
L	M	Mi	J	V	S	D
			1	2	3	4
5	6	7	8	9	10	11
12	13	14	15	16	17	18
19	20	21	22	23	24	25
26	27	28	29	30	31	

SEPTIEMBRE						
L	M	Mi	J	V	S	D
						1
2	3	4	5	6	7	8
9	10	11	12	13	14	15
16	17	18	19	20	21	22
23/30	24	25	26	27	28	29

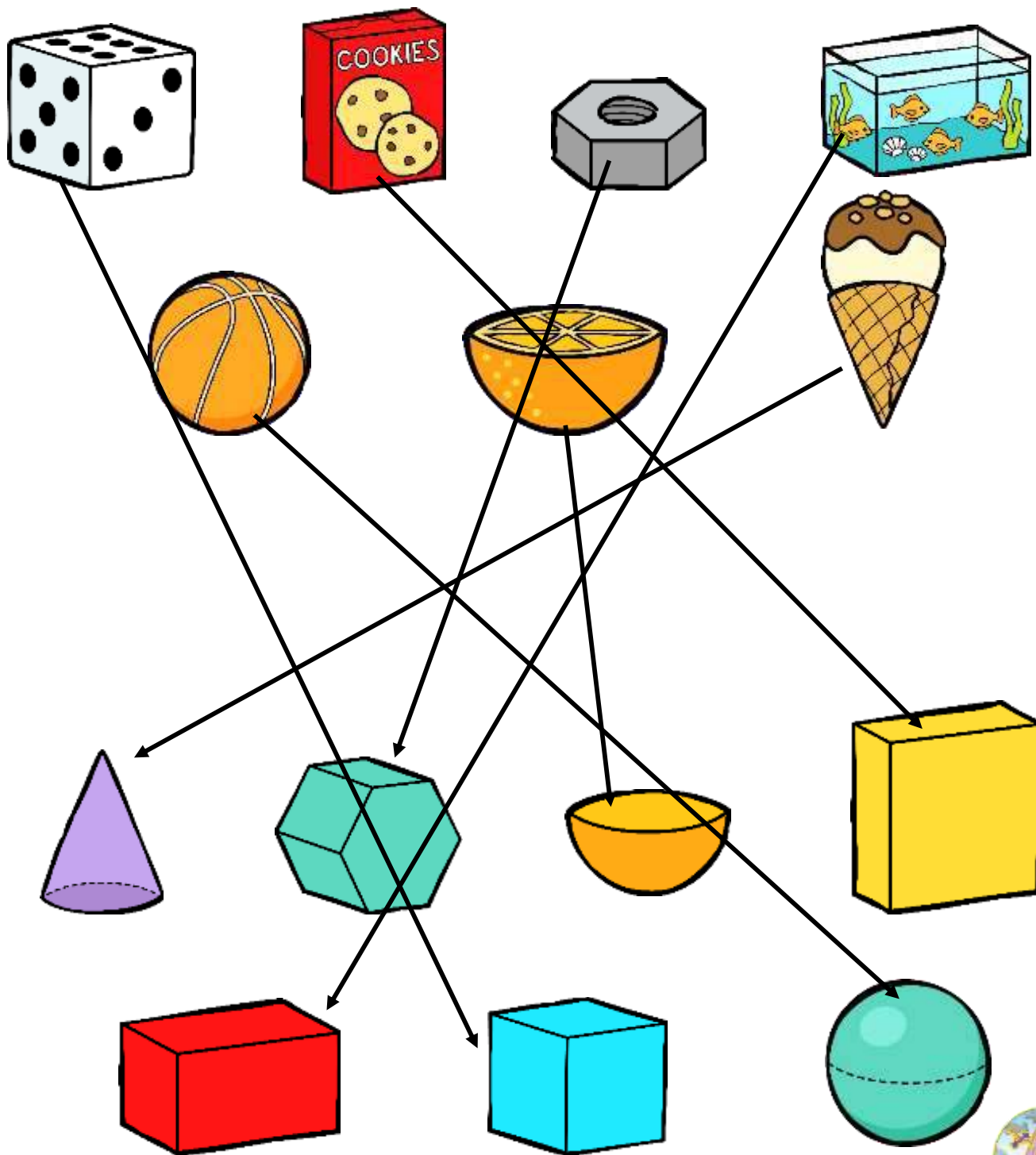
Ramiro cumplió años el 15 de agosto. ¿Qué día de la semana fue su cumpleaños?
jueves

Alonso juega fútbol todos los sábados en el equipo de su barrio. ¿Cuántas veces jugará fútbol en el mes de septiembre? 4 veces

Aproximadamente ¿cuántos días hay en un bimestre? 60



16-22. Relaciona con una línea el cuerpo geométrico con su forma parecida



23-25. Anota la hora que marcan los relojes.



12 : 00





6 : 45



3 : 10

26-29. Marca con una el objeto que puede medirse en metros.



Ciencias naturales

1-2. Escribe 2 cosas que haces para cuidar tu salud

3-4. Marca con una palomita lo que hace tu familia cuando te enfermas



5. Encierra el dibujo que represente mejor la celebración de la Independencia de México.



6-10. Escribe dentro de cada recuadro el nombre de cada sentido: oído, vista, gusto, olfato y tacto.



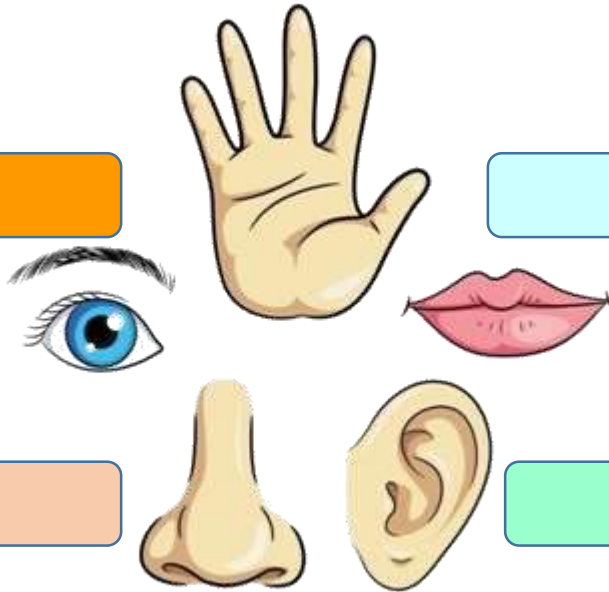
tacto

vista

gusto

olfato


oído



11-12. Dibuja actividades que realizas

Durante el día

Durante la noche



13-15. Escribe sobre la línea el derecho que corresponde a cada imagen.



Atención
medica



A la educación



Tener una
familia

16-18. Observa la siguiente imagen y después responde las preguntas.



Nombre de la tradición: Día de muertos

¿Cuándo se celebra? Noviembre

¿Cómo participo? _____

19-21. Escribe si el sonido que se produce es débil o fuerte.



fuerte



débil



fuerte



débil



FORMACION CIVICA Y ETICA

1-4. Encierra a los niños que se alimentan correctamente.



5-8. Señala las situaciones en las que debes avisar inmediatamente a un adulto.



Cuando siento dolor o algún malestar.



Si dejo de oír o ver bien.



Si me di un golpe en la cabeza o en otra parte del cuerpo.



Cuando siento frío en exceso.



Cuando sale a la venta un nuevo videojuego.



Cuando va pasando por la calle el carrito de los helados.



9.- ¿Para qué sirven las vacunas?

- a) Para curar la diabetes.
- a) Para prevenir la obesidad.
- b) Para castigar a los niños.
- b) Para prevenir enfermedades.

10.- Son medidas de higiene personal.

- a) Bañarse, lavarse los dientes, usar ropa limpia, cepillar el cabello.
- a) Hacer las tareas, llegar puntual, a la escuela, cumplir con el uniforme.
- a) Dormir bien, hacer ejercicio, comer correctamente.
- a) Ser respetuoso, jugar con los compañeros nuevos, ser amable y gentil.

11-13. Escribe el derecho que corresponde a las actividades de cada imagen.



A descansar



A jugar



Atención médica

14-16. Escribe tres acciones que realizas para cuidar tu cuerpo.

1

2

3

