

Examen de Diagnostico



4



CICLO ESCOLAR 2021-2022

Nombre del alumno

Grado

Grupo

Fecha

Nombre de la escuela

DINO MATERIALES



MATERIA	REACTIVOS	ACIERTOS	CALIFICACION
ESPAÑOL	25		
MATEMATICAS	25		
CIENCIAS NATURALES	15		
HISTORIA	19		

Firma del padre
o tutor



ESPAÑOL

1. Lugar donde se tienen libros ordenados y espacios para su lectura.

A) Librería.

B) Biblioteca.

C) Círculo de lectura.

D) Sala de lectura.

2. ¿Para qué sirve tener un reglamento en la biblioteca del salón?

a) Para que el director sepa dónde están los libros.

b) Para vender los libros.

c) Para que el maestro reparta los libros.

d) Para dar un buen uso, organizar y prestar libros.

LEE EL SIGUIENTE CHISTE Y RESPONDE.

“Un limón llega tarde a su cita con una manzana, y al llegar le pregunta - ¿Hace mucho que espera?, a lo que la manzana le responde - ¡No!, siempre he sido manzana.”

3. ¿Qué juego de palabras se emplea en el chiste?

a) Discurso indirecto. b) Chiste local.

c) Doble sentido. d) Trabalenguas.

4. La siguiente es una frase con signos de admiración:

a) ¿Por qué se comieron mi casita de chocolate?

b) De inmediato Gretel liberó a Hansel.

c) ¡Auxilio, alguien que nos ayude!

d) (de pronto se escuchó una voz).

5. ¿En cuál documento es importante que la información se encuentre en orden alfabético?

a) En el menú de un restaurant.

b) En las secciones del periódico.

c) En la lista del supermercado.

d) En un directorio telefónico.



6. ¿Cómo se buscan las palabras en un diccionario?

- a) En orden cronológico.
- b) En orden alfabético.**
- c) En orden lógico.
- d) En orden de importancia.

7. ¿Qué palabra está escrita incorrectamente?

- a) veracruz.**
- b) manzana.
- c) Luisa.
- d) López.

8. Localiza la opción que define correctamente lo que es un folleto.

- a) Es un material impreso que sirve para informar a través de textos e imágenes.**
- b) Es una composición literaria que expresa los sentimientos del autor.
- c) Es un documento impreso que contiene las noticias actuales.
- d) Es un material impreso que contiene una moraleja.

9. Palabras que pertenecen a la misma familia léxica de "observación".

- a) Mirar, mirador, mirada.
- b) Ver, verlo, verificar.
- c) Observador, observado, observaste.**
- d) Mirar, ver, observar.

10. Tipo de revistas que contienen artículos cuyo propósito es exponer y comunicar, de manera precisa y real, descubrimientos o explicaciones de fenómenos o sucesos.

- a) Revistas de espectáculos.
- b) Revistas de divulgación científica.**
- c) Revistas de entretenimiento.
- d) Revistas de análisis político.

11. Parte de un artículo de divulgación científica, escrito con letras más grandes que las utilizadas en el resto del artículo.

- a) Resumen.
- b) Contraportada.
- c) Subtítulo.
- d) Título.**



12. Es el dicho o historieta breve que, a través de un juego de palabras o conceptos, provoca risa.

- a. El poema. b. El chiste. c. La historieta. El refrán

13. ¿Qué pregunta está correctamente escrita para conocer la edad de tus compañeros?

- a) Cuantos años tienes.
b) ¡Cuántos años tienes!
c) ¿cuántos años tienes!

d) ¿Cuántos años tienes?

14. Es el documento que contiene los datos de las personas que forman un grupo. Dichos datos pueden ser domicilio, teléfono, etcétera.

- a. Enciclopedia. b. Directorio. c. Manual. d) Folleto

LEE EL SIGUIENTE TEXTO Y RESPONDE.

“El señor Thompson ha trabajado desde que era muy joven, lo que le ha permitido amasar una gran fortuna”.

15.- De acuerdo al contexto de la oración, ¿Qué significa amasar una gran fortuna?

- a) Que amasó desde joven y le dio suerte.
b) Que hizo su fortuna amasando masa.
c) Que ha juntado mucho dinero.
d) Que la fortuna la encontramos si amasamos.

16. Son textos escritos en verso, que se caracterizan por tener ritmo y rima; a cada conjunto de dos o más versos se le llama estrofa. ¿Qué tipo de texto es?

- a) Autobiografía.
b) Artículos de divulgación científica.
c) Chistes.

d) Poemas.



17. ¿Cuáles son los elementos para escribir un remedio casero?

a) Planteamiento, desarrollo y desenlace.

b) Ingredientes, procedimiento, dosis y forma de uso.

c) Introducción, desarrollo y conclusión.

d) Palabras, enunciados y párrafos.

18. Son textos informativos escritos en lenguaje literal que dan a conocer descubrimientos de manera exacta y real.

a) Autobiografía.

b) Artículos de divulgación científica.

c) Chistes.

d) Poemas.

19. Es la representación gráfica y organizada de las personas que conforman una familia.

a) album

b) árbol genealógico

c) encuesta

d) noticia

20. Se le llama así a la igualdad o semejanza de sonidos que existe al final de los versos de un poema.

a) estrofa

b) verso

c) rima

d) poema

21. Es el relato de la vida de una persona escrita por ella misma.

a) Poema

b) noticia

c) autobiografía

d) biografía

22. La siguiente, es un ejemplo de adivinanza.

a) “Los pollitos dicen, pio, pio, pio, cuando tienen hambre, cuando tienen frío”.

b) “Te la digo y no me entiendes, te la repito y no me comprendes, ¿qué es?”.

c) “La pícara pájara pica con su pico en la típica jícara”.

d) “Tus ojos, son como dos luceros que alumbran mi camino”.

23. Parte de un artículo de divulgación científica, escrito con letras más grandes que las utilizadas en el resto del artículo.

A) Resumen.

B) Contraportada.

C) Subtítulo.

D) Título.



24. ¿En el cuento de Caperucita Roja, que adjetivos describen correctamente al Lobo?

- a) Feroz, malo, astuto.
- b) Hermoso, bueno, amable.
- c) Delgado, bonito, dulce.
- d) Flojo, lento, tonto.



25.- Son ejemplos de verbos en infinitivo.

- a) Cocer, hervir, moler.
- b) Cuece, hierve, muele.
- c) Cocerá, hervirá, molerá.
- d) Coció, hirvió, molió.

MATEMATICAS

1-4.Observa los precios de los artículos y responde las preguntas.



\$50



\$30



\$65



\$40



\$70



\$15

1.- Miguel compró:



¿Cuánto pagó?

- \$ 49 pesos.
- c) \$ 93 pesos.
- \$ 24 pesos.
- d) \$ 45 pesos.**

2.- Lorena compró:



¿Cuánto pagó?

- \$ 140 pesos.
- c) \$100 pesos.
- \$ 130 pesos.
- d) \$ 120 pesos.**

3.- Miguel pagó con \$200 pesos.

¿Cuánto le sobró?

- \$ 155 pesos.**
- c) \$ 79 pesos.
- \$ 80 pesos.
- d) \$ 10 pesos.

4.- Lorena pagó con \$200 pesos.

¿Cuánto le sobró?

- \$ 30 pesos.
- c) \$ 80 pesos.**
- \$ 40 pesos.
- d) \$ 45 pesos.

5. Completa la siguiente sucesión.



6. ¿Cómo se lee la siguiente cantidad? **4582**

a) cuatrocientos quinientos ochenta y dos.

b) cuarenta y cinco mil ochenta y dos.

c) cuatro mil quinientos ochenta y dos.

d) cuatro quinientos ochenta y dos.

7. ¿Cómo se representa con números la cantidad: siete mil trescientos setenta y uno?

a) 7613. b) 7361.

c) 7371. d) 7671.

8. Si las manzanas se venden en bolsas de 10 piezas, ¿cuántas manzanas hay en 12 bolsas?

A) 110 manzanas.

B) 100 manzanas.

C) 120 manzanas.

D) 130 manzanas.



9.- Para comprar un nuevo bote de basura en el salón de clases, 32 niños cooperaron \$10 pesos cada uno, ¿cuánto dinero juntaron?

A) \$300

B) \$400

C) \$320

D) \$120

10.- ¿Cuántas horas tiene un día?

A) 24 horas.

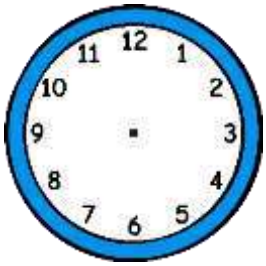
B) 60 horas.

C) 20 horas.

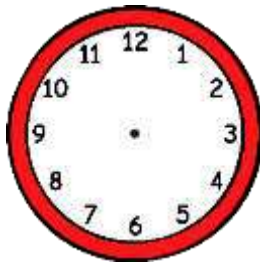
D) 23 horas.



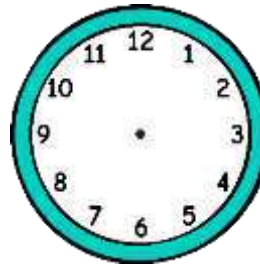
11-14. Dibuja las manecillas a cada reloj para que marquen la hora indicada.



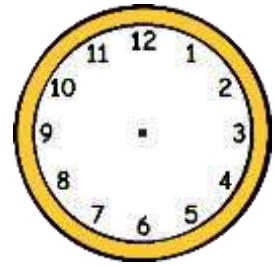
10:30



1:20



6:15



3:45

INSTRUCCIONES: Observa la imagen y responde las preguntas 15 y 16 (Todos los vuelos salen del Aeropuerto de México).

Vuelo con destino	Hora de salida	Hora de llegada	costo
Monterrey	7:00	8:15	\$1500
Guadalajara	9:30	10:30	\$2200
Saltillo	11:15	12:00	\$1200
Tijuana	10:55	12:55	\$2500
Mérida	11:05	12:35	\$2000

15.- ¿Cuánto tiempo tarda el vuelo de la Ciudad de México a Tijuana?

- A) Una hora.
- B) Una hora y media.
- C) Cuarenta y cinco minutos.


D) Dos horas.

16.- ¿Con cuánto dinero compramos dos boletos para viajar a Mérida?

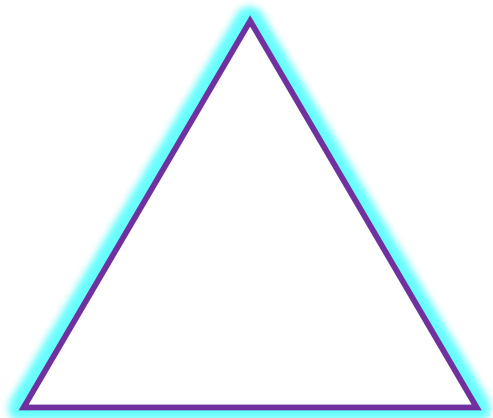
- A) \$2 000
- B) \$3 000
- C) \$4 000
- D) \$5 000



17-22. Coloreen y dividan la parte que se solicita para cada figura.




$$\frac{7}{8}$$



$$\frac{1}{2}$$




$$\frac{5}{12}$$



$$\frac{7}{12}$$



$$\frac{8}{12}$$




$$\frac{3}{4}$$



23. La mamá de Laura vende galletas, hoy horneó 45 y le pidió ponerlas en bolsas de 5 galletas cada una. ¿Cuántas bolsas de galletas venderá su mamá este día?

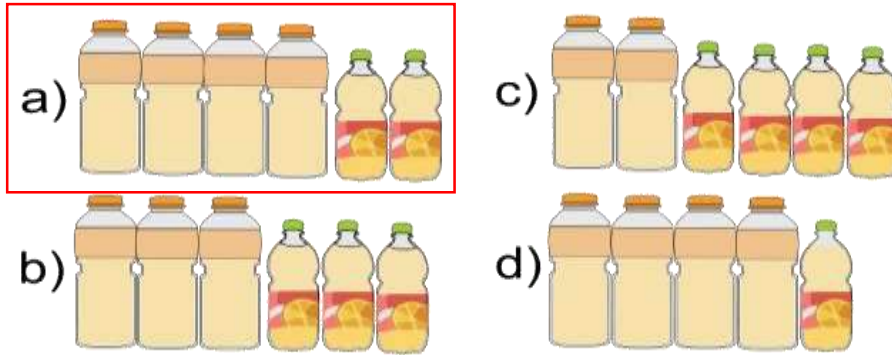
- A) 225 bolsas.
- B) 50 bolsas.
- C) 9 bolsas.
- D) 40 bolsas.



24. En la tienda de Don Pepe venden el jugo de naranja en estos envases:



Elige la opción que representa 2 litros y $\frac{1}{2}$ de jugo.



25. En un acuario están limpiando las peceras, por lo que provisionalmente reubicaron a los animales de tres peceras en una sola. Si en la primera había 22 peces, en la segunda 12 cangrejos y en la tercera 8 tortugas, ¿cuántos animales en total colocaron juntos?

- A) 42 animales.
- B) 30 animales.
- C) 20 animales.
- D) 34 animales.



CIENCIAS

NATURALES

1.- Lupita está preparando su menú para comer y ha incluido: tortilla, lentejas, lechuga y fresas. ¿Qué alimento le falta incluir para consumir productos de los tres grupos de alimentos del Plato del bien comer?

- a) pan.
- b) manzana.
- c) frijoles.
- d) pollo.

2.- ¿Por qué razón los pastelitos, frituras y los refrescos no están en el plato del bien comer?

- a) Porque su consumo depende del gusto de las personas.
- b) Porque podemos comer la cantidad que queramos libremente.
- c) Porque ya no había espacio en el plato.
- d) Porque contienen grandes cantidades de grasa y azúcares, por lo que su consumo debe ser de vez en cuando y en muy pocas cantidades.

3.- ¿A qué se le llama dieta?

- a) A la variedad y cantidad de alimentos que se consumen cada día.
- b) A dejar de consumir alimentos para estar sano.
- c) A comer más leguminosas para que nos de proteínas.
- d) A dejar de comer alimentos de origen animal pues contienen grasas saturadas.

4.- Es una medida para prevenir accidentes y lesiones en nuestro cuerpo.

- a) Saltar de lo más alto de un árbol para fortalecer las piernas.
- b) Cargar en la espalda cosas pesadas para endurecer los hombros.
- c) Correr por tres horas bajo el sol sin tomar agua para fortalecer la respiración.
- d) Calentar los músculos antes de hacer ejercicio.

5.¿Qué medida de higiene debemos tomar para evitar infecciones en nuestro cuerpo?

- a) Usar la misma camisa durante varios días para crear defensas.
- b) Bañarnos cada 8 días para evitar quitarnos la grasa protectora del cuerpo.
- c) Lavar nuestros órganos sexuales externos y cambiar nuestra ropa interior diariamente.
- d) Lavarnos las manos solo después de comer.



6. Localiza la acción que nos ayudan a organizar la basura y nuestros desechos para no contaminar.

- a) Quemar la basura para que no se acumule.
- b) Enterrar las botellas de plástico en el jardín.
- c) Tirar la basura en los ríos para que no contaminen las calles.
- d) Separar la basura en orgánica e inorgánica.**

7. Son ejemplos de recursos naturales

- a) El aire, el agua, el viento, las plantas y los animales.**
- b) La gasolina, el plástico, el papel.
- c) La tela, la electricidad, el azúcar.
- d) La ropa, los muebles, las computadoras.

8.- ¿Por qué es importante llevar a cabo la estrategia de las 3 erres del reciclaje?

- a) No es importante, ya que siempre habrá basura.
- b) Porque así aprendemos a clasificar la basura.
- c) Porque ayuda a evitar que se agoten los recursos naturales.**
- d) Porque así vamos a generar desechos que van a contaminar solo un poco.

9.- Identifica al alimento que es una mezcla.

- a) Pollo asado.
- b) Agua de Jamaica.**
- c) Huevo cocido.
- d) Jugo de naranja.

10.-En qué situación el material mencionado se disuelve en el agua si lo revuelves.

- a) Al agregar sal al agua.**
- b) Al agregar aceite al agua.
- c) Al agregar lentejas al agua.
- d) Al agregar fresas al agua.

11.-¿Cómo se pueden prevenir accidentes al realizar ejercicios físicos?

- A) Calentando los músculos antes de realizar ejercicio.**
- B) Haciendo ejercicios extenuantes por tiempos prolongados.
- C) Caminando sobre bardas.
- D) Subiendo a las azoteas.

12.-Nombre qué reciben los animales que se alimentan de otros animales:

- A) Herbívoros.
- B) Carnívoros.**
- C) Omnívoros.
- D) Insectívoros.



13.-Es la unidad que se utiliza frecuentemente para medir la capacidad de los recipientes.

A) Patrón.

B) Litro.

C) Metro.

D) Kilo.

14.-¿Qué sucede si dejo una paleta de hielo en el comedor de mi casa durante una hora?

a) Se endurece. b) Se congela.

c) Se derrite. d) Se evapora.

15.-El movimiento de nuestro cuerpo es fundamental para nuestra vida diaria. ¿Cuáles sistemas trabajan en conjunto para que puedas moverte?

a) El óseo, muscular y nervioso.


b) El digestivo, óseo y respiratorio.

c) El muscular, digestivo y circulatorio.

d) El nervioso, circulatorio y muscular.

HISTORIA

1—4. Une cada aparato antiguo con el nuevo o actual



5-8. Observa las imágenes y relaciona las columnas.

Agricultura



Artesanía



Pesca



Ganadería



9. ¿Qué guerra dio inicio el 16 de septiembre de 1810 para liberarse de los españoles?

- A) Independencia. B) Reforma. C) Revolución. D) Conquista.

10. ¿Cómo se le llama al periodo en el que estuvo como presidente Porfirio Díaz?

- A) Virreinato. B) Porfiriato. C) Prehispánico. D) Reforma.

11. ¿Qué objetos o utensilios son de origen prehispánico?

- A) Licuadora, horno de microondas. B) Refrigerador
C) Molcajete, metate. D) Estufa.

12. ¿A qué se dedicaban los primeros hombres de nuestra entidad en la época prehispánica?

- A) A nadar B) Al comercio (Vender cosas)
C) A cazar animales y recolectar frutos D) A leer y escribir.



13-19. Encierra de color rojo los personajes que participaron en la independencia de México y de azul quienes participaron en la revolución mexicana

