

3 Grado



Ciclo Escolar
Nueva Escuela Mexicana

Evaluación Diagnóstica

Nombre del Alumno:

Grado:

Grupo:

Fecha:

Nombre de la Escuela:

MATERIA	REACTIVOS	ACIERTOS	CALIFICACIÓN
Saberes y pensamiento científico	24		
Lenguaje	24		
De lo humano y lo comunitario	24		
Ética, naturaleza y sociedades	18		

Firma del padre o tutor: _____

Saberes y pensamiento científico Pág. 1

1 al 3.- Calcula cuántas piezas hay en cada caso.



Si hay 7 cajas iguales,
¿Cuántos melones hay
en total?



Si hay 5 charolas iguales,
¿Cuántas galletas hay en
total?



Si hay 10 racimos iguales,
¿Cuántos platanos hay en
total?

Observa el precio de los siguientes artículos y responde las preguntas.



Marca con la respuesta correcta.

4.- ¿Cuál es el precio correcto del siguiente artículo?



Veinte nueve pesos

Veintinueve pesos

Veinte y nueve pesos

5.- ¿Cuántos pesos pagó Daniela si compró lo siguiente?



Cuatro y siete

Cuatrocientos siete

Cuarenta y siete

6.- ¿Cuánto se tendría que pagar si se compraran todos los artículos?

\$61

\$73

\$36

Resuelve los siguientes problemas.

Saberes y pensamiento científico. Pág. 2/3

En el mercado tienen los siguientes precios:



7.- Si José compró 2 naranjas 1 sandías y 2 piñas.

¿Cuánto pagó en total? _____

8.- Miguel tiene 40 pesos y quiere comprar 4 piñas.

¿Cuánto le falta? _____

9.- Sofía compro 10 sandías y pagó con un billete de \$100 pesos.

¿Cuánto le sobró? _____

10.- Don Matías tiene 3 nietos y compró dos naranjas para cada uno.

¿Cuánto pagó? _____

11 al 14.- Resuelve las operaciones.


¿Cuánto le falta a 25 para 100? _____

¿Cuánto le falta a 800 para 1000? _____

¿Cuánto es 1000 menos 400? _____

¿Cuánto es 100 menos 50? _____

15 y 16.- Usa las tres tarjetas para para formar los números que se piden.



Escribe el número más grande:

--	--	--

Escribe el número más pequeño:

--	--	--

Realiza las actividades.

Saberes y pensamiento científico Pág. 3/3

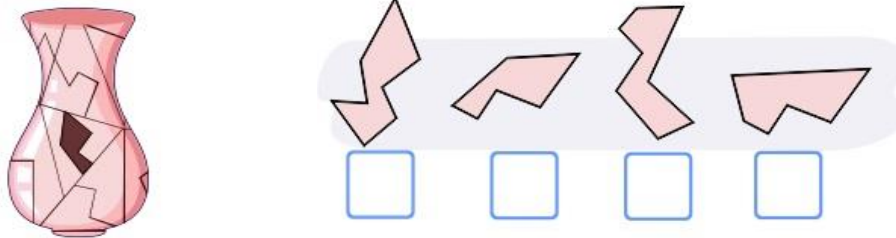
17.- Usa la recta numérica para sumar las cantidades: $460 + 230$



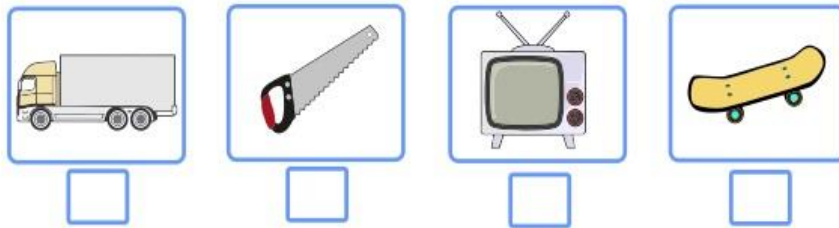
18 al 20.- Anota la hora que marcan los relojes.



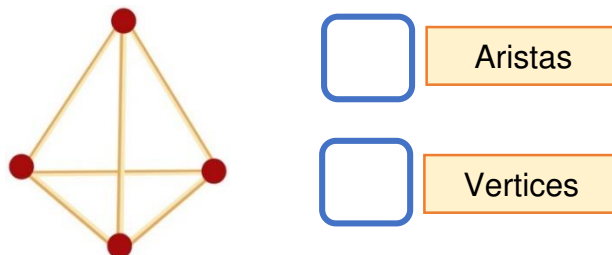
21.- Marca con una la pieza que falta en el jarrón.



22.- Marca con una el objeto que puede medirse en metros.



23 y 24.- ¿Cuántas aristas y cuántos vértices tiene la siguiente figura?



Lenguaje Pág. 1

Lee con atención el siguiente texto y contesta las preguntas.

El plan de los ratones – Autor: Esopo

Cierto día los ratones se reunieron para idear un plan, pues necesitaban saber cuándo estaba cerca el gato de la casa. Muchas veces se arrojaba sobre ellos por sorpresa y estaban hartos de vivir huyendo.



Uno de ellos habló:

- Esto tiene que terminar. ¿Alguien tiene algún plan?
- ¿Qué les parece si le amarramos un cascabel al gato para saber siempre dónde está?
- ¡Excelente idea!

Celebraron con aplausos el nuevo plan, hasta que otro ratón los hizo callar:

- ¿Y quién le va a poner el cascabel al gato?

Subraya la respuesta correcta.

1. ¿Qué tipo de texto es la lectura anterior?
 - a) Un poema.
 - b) Una fábula.
 - c) Una leyenda.
 - d) Una noticia.
2. ¿Cuál era el plan de los ratones para saber siempre dónde está el gato?
 - a) Hacer guardia para vigilar por turnos.
 - b) Poner una cámara de vigilancia.
 - c) Amarrarle un cascabel al cuello.
 - d) Poner trampas para gatos.
3. ¿Cuál es la moraleja de la lectura anterior?
 - a) No celebrar antes de tiempo y planear bien nuestras metas.
 - b) Debemos festejar nuestros planes antes de llevarlos a cabo.
 - c) Hay que poner trampas para ratones.
 - d) No hay que tener gatos en casa.
4. Elige la frase escrita en discurso directo.
 - a) “Cierta día los ratones se reunieron para idear un plan”
 - b) “– Esto tiene que terminar. ¿Alguien tiene algún plan?”
 - c) “Celebraron con aplausos el nuevo plan”
 - d) “Estaban hartos de vivir huyendo”
5. ¿En qué material puedes encontrar información sobre cómo nacen las mariposas?
 - a) En un libro de cuentos
 - b) En un libro de poesía.
 - c) En un libro informativo.
 - d) En el periódico.
6. ¿Qué podrías encontrar en un libro llamado **El príncipe valiente**?
 - a) Una receta de cocina.
 - b) Un cuento.
 - c) Una noticia.
 - d) Un instructivo.

Completa los versos con las palabras que **riman**.

Lenguaje Pág. 2/3

7.- Naranja dulce,
limón _____
dame un abrazo
que yo te _____.

avión

pido

8.- Anita la araña
viajaba en _____
usando un vestido
de puro _____

algodón

partido

9 y 10.- Escribe la frase correcta en el dibujo que corresponde.



Luis, Miguel, Ana, Lilia

Luis Miguel, Ana Lilia

11 y 12.- Escribe los signos ¡! ¿? Que hagan falta en las oraciones.

___Quieres una manzana___

___Aleja esa cosa de aqui___



13 al 15.- Marca con una el nombre correcto de los dibujos.

freza 
 fresa

jitomate 
 gitomate

uvas 
 huvas

16 y 17.- Escribe dos **adjetivos** para describir a Miguel y a su perro.

Lenguaje Pág. 3/3



Miguel:

Perro:

18.- Marca con las características de una obra de teatro.

- | | |
|---|---|
| <input type="checkbox"/> Dicen las noticias de la semana. | <input type="checkbox"/> Hay acotaciones. |
| <input type="checkbox"/> El texto está escrito para que los actores digan sus diálogos. | <input type="checkbox"/> Contiene una historia para ser representada por actores. |

19 al 22.- De los siguientes datos marca con una los que se pueden encontrar en tu acta de nacimiento.

- | | |
|--|---|
| <input type="checkbox"/> Mi nombre. | <input type="checkbox"/> Nombre de mis abuelos. |
| <input type="checkbox"/> Nombre de mis padres. | <input type="checkbox"/> Nombre de mis amigos. |
| <input type="checkbox"/> Número telefónico. | <input type="checkbox"/> Lugar de nacimiento. |

23 y 24.- Marca con una los datos que deben incluirse en un anuncio publicitario para ofrecer productos y servicios.

- | | |
|--|---|
| <input type="checkbox"/> Nombre de la persona. | <input type="checkbox"/> Horario. |
| <input type="checkbox"/> Producto o servicio que ofrece. | <input type="checkbox"/> Dirección o teléfono para localizarlo. |
| <input type="checkbox"/> Lugar de nacimiento. | <input type="checkbox"/> Nivel de estudios |

Ética, naturaleza y sociedades Pág. 1

1 al 3.- Escribe el nombre de las plantas de acuerdo al grupo al que pertenecen: **árboles, yerbas, o arbustos.**



4 al 6.- Marca con una los animales que necesitan de las plantas.



7.- Marca con una cuál de las siguientes es una **actividad recreativa.**



8 al 10.- Escribe el sabor principal de cada alimento: **salado, dulce o amargo.**

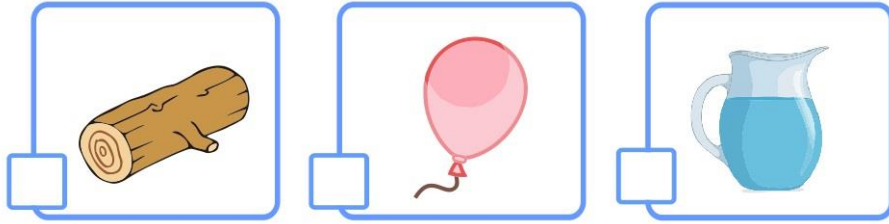


11.- ¿Cómo puedes cuidar tu sentido del olfato?

Handwriting practice lines with a spiral binding on the left side.

12.- Marca con una el objeto en el que hay un gas.

Ética, naturaleza y sociedades Pág. 2/3



13 al 15.- Escribe los estados físicos del agua.



16 al 19.- Escribe el nombre de las estaciones del año de acuerdo a sus características.



Empieza a aumentar la temperatura, algunas plantas florecen.



Hace más calor y llueve mucho; las plantas crecen más rápido.



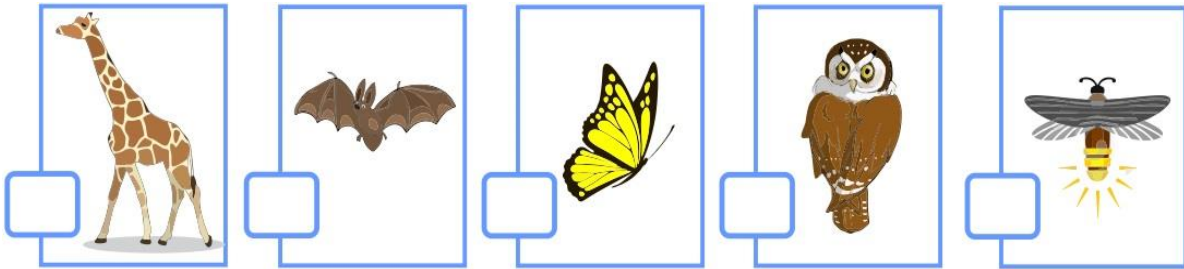
Hace menos calor, las hojas de algunos árboles se amarillean y caen. Llueve con menos frecuencia.



Hace mucho frío, casi no florecen plantas, en algunos lugares cae nieve.

20 al 22.- Marca con una los animales nocturnos.

Ética, naturaleza y sociedades Pág. 3/3



Observa las imágenes y contesta las preguntas subrayando la respuesta correcta.



23.- ¿Cómo están clasificados los animales?

- a) Por el lugar donde viven.
- b) Por su forma.
- c) Por su tamaño.
- d) Por lo que recubre su piel.



24.- ¿Qué criterio se utilizó para agrupar las hojas?

- a) Por la planta a la que pertenece.
- b) Por su forma.
- c) Por su tamaño.
- d) Por su color.

De lo humano y lo comunitario Pág. 1

1 y 2.- Describe brevemente cada tradición.



Día de muertos



Navidad

Marca con una palomita la respuesta correcta.

3 al 7.- Señala las acciones que debes realizar para tener una vida saludable.

- | | | |
|--|---|--|
| <input type="checkbox"/> Alimentarse de manera correcta. | <input type="checkbox"/> Dormir bien. | <input type="checkbox"/> Seguir normas de higiene. |
| <input type="checkbox"/> Realizar actividad física. | <input type="checkbox"/> Desvelarse haciendo tarea para sacar 10. | <input type="checkbox"/> Tener mucho dinero. |

8 al 11.- Señala las situaciones en las que debes avisar inmediatamente a un adulto.

- | | | |
|--|--|---|
| <input type="checkbox"/> Cuando siento dolor o algún malestar. | <input type="checkbox"/> Si dejo de oír o ver bien. | <input type="checkbox"/> Si me di un golpe en la cabeza o en otra parte del cuerpo. |
| <input type="checkbox"/> Cuando siento frío en exceso. | <input type="checkbox"/> Cuando sale a la venta un nuevo videojuego. | <input type="checkbox"/> Cuando va pasando por la calle el carrito de los helados. |

Subraya la respuesta correcta.

De lo humano y lo comunitario Pág. 2/2

12.- ¿Para qué sirven las vacunas?

- a) Para curar la diabetes.
- b) Para castigar a los niños.
- c) Para prevenir la obesidad.
- d) Para prevenir enfermedades.

13.- Son medidas de higiene personal.

- a) Bañarse, lavarse los dientes, usar ropa limpia, cepillar el cabello.
- b) Dormir bien, hacer ejercicio, comer correctamente.
- c) Hacer las tareas, llegar puntual, a la escuela, cumplir con el uniforme.
- d) Ser respetuoso, jugar con los compañeros nuevos, ser amable y gentil.

14 al 16.- Escribe el derecho que corresponde a las actividades de cada imagen.







17.- Describe brevemente que es la **Justicia**.

18.- Escribe un ejemplo de algo **injusto**.

Es injusto que:

CicloEscolar.mx ® 2023-2024

Este examen fue elaborado exclusivamente para www.cicloescolar.mx.



Examen Diagnóstico Tercer grado Ciclo escolar 2023-2024 por <https://www.cicloescolar.mx> se distribuye bajo una [Licencia Creative Commons Atribución-NoComercial-SinDerivadas 4.0 Internacional](https://creativecommons.org/licenses/by-nc-nd/4.0/).

Visita: <https://www.cicloescolar.mx>

Este examen fue elaborado exclusivamente para www.cicloescolar.mx.

Si utilizas estos materiales en tu página web deberás atribuir autoría a [cicloescolar.mx](http://www.cicloescolar.mx)

E incluir un código en el post o entrada donde compartes los materiales de [cicloescolar.mx](http://www.cicloescolar.mx)

```
<a href="https://www.cicloescolar.mx " >Exámenes de Primaria por  
CicloEscolar.mx</a>
```