

4 Grado



Evaluación Diagnóstica

Nombre del Alumno:

Grado:

Grupo:

Fecha:

Nombre de la Escuela:

MATERIA	REACTIVOS	ACIERTOS	CALIFICACIÓN
Saberes y pensamiento científico	20		
Lenguaje	14		
Ética, naturaleza y sociedades	26		
De lo humano y lo comunitario	15		

Firma del padre o tutor: _____

Saberes y pensamiento científico Pág. 1

Observa los precios de los artículos y responde las preguntas.



1.- Miguel compró:



¿Cuánto pagó?

- a) \$ 120 pesos. c) \$ 93 pesos.
b) \$ 121 pesos. d) \$ 210 pesos.

3.- Lorena compró:



¿Cuánto pagó?

- a) \$ 96 pesos. c) \$100 pesos.
b) \$ 78 pesos. d) \$ 87 pesos.

2.- Miguel pagó con \$200 pesos.

¿Cuánto le sobró?

- c) \$ 107 pesos. c) \$ 79 pesos.
d) \$ 80 pesos. d) \$ 10 pesos.

4.- Lorena pagó con \$150 pesos.

¿Cuánto le sobró?

- a) \$ 65 pesos. c) \$ 36 pesos.
b) \$ 54 pesos. d) \$ 45 pesos.

5 al 8.- Escribe el nombre del tipo de ángulo según corresponde.

recto

llano

agudo

obtuso







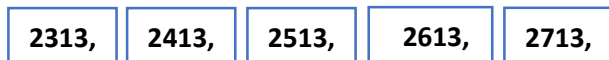


9.- Completa la siguiente sucesión.



Subraya la respuesta correcta.

10.- Indica cual es la regularidad de la siguiente sucesión numérica:



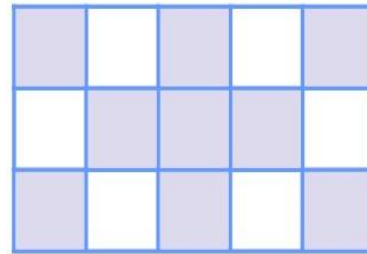
- a) Incrementa de 50 en 50
- b) Disminuye de 100 en 100
- c) Disminuye de 50 en 50
- d) Incrementa de 100 en 100

12.- ¿Qué número falta en la siguiente sucesión?



- a) 1283
- b) 1383
- c) 1574
- d) 1673

13.- ¿Qué fracción representa la parte sombreada de la siguiente figura?

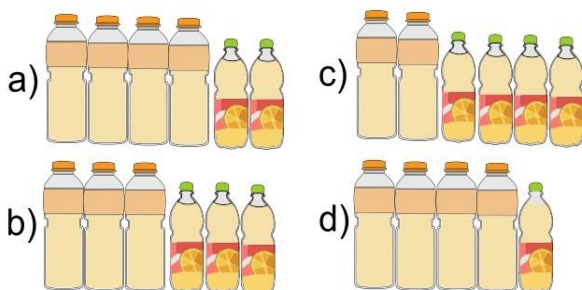


- a) $\frac{3}{5}$ (tres quintos)
- b) $\frac{3}{6}$ (tres sextos)
- c) $\frac{8}{4}$ (ocho cuartos)
- d) $\frac{9}{5}$ (nueve quintos)

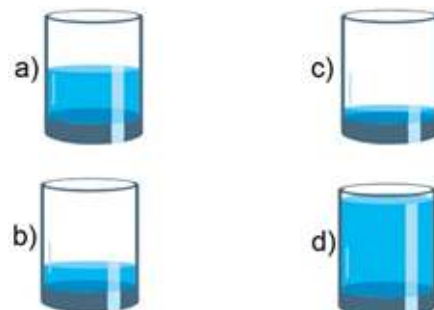
En la tienda de Don Pepe venden el jugo de naranja en estos envases:



11.- Elige la opción que representa 2 litros y $\frac{1}{2}$ de jugo.



14.- Elige el vaso que contiene aproximadamente $\frac{1}{8}$ de agua.



Resuelve los problemas.

Saberes y pensamiento científico Pág. 3/3

15.- Mariana tiene ahorrado 500 pesos y lo quiere repartir entre sus 4 hijos. ¿Cuánto le toca a cada uno?

- a) 180 pesos.
- b) 125 pesos.
- c) 150 pesos.
- d) 200 pesos.

16.- Don Manuel tiene 120 pesos y los quiere repartir entre sus 6 sobrinos. ¿Cuánto le toca a cada uno?

- a) 15 pesos.
- b) 40 pesos.
- c) 20 pesos.
- d) 30 pesos.

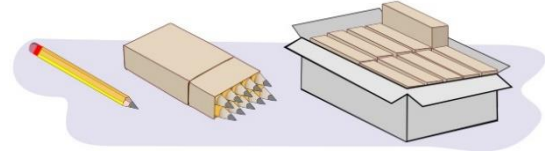
17.- En un campo hay 10 filas de árboles de manzana. Cada fila tiene 8 árboles. ¿Cuántos árboles hay en total?

- a) 18 árboles.
- b) 80 árboles.
- c) 180 árboles.
- d) 10 árboles.

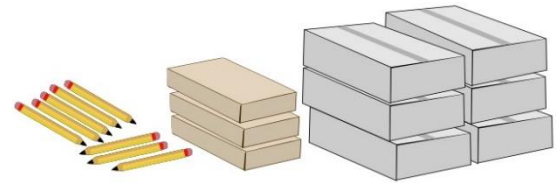
18.- Si cada árbol tiene 4 manzanas. ¿Cuántas manzanas hay en total?

- a) 320 manzanas.
- b) 220 manzanas.
- c) 230 manzanas.
- d) 310 manzanas.

19.- En la papelería “La Escolar” venden **lápices sueltos, paquetes de 10** y en **cajas de 100 piezas.**



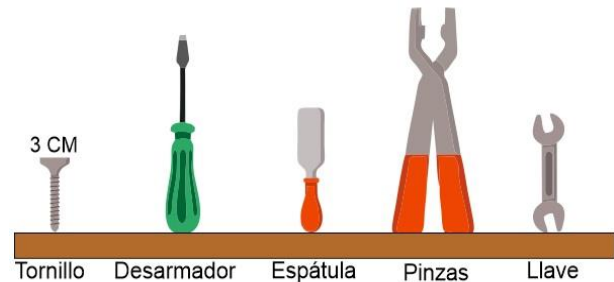
Si el mes de julio se vendió lo siguiente:



¿Cuántos lápices se vendieron en total?

- a) 448 lápices.
- b) 568 lápices.
- c) 638 lápices.
- d) 245 lápices.

Observa la imagen y responde.



20.- ¿Qué objeto tendrá una longitud entre 7 y 8 cm?

- a) Desarmador.
- b) Espátula.
- c) Pinzas.
- d) Llave.

Lenguaje Pág. 1

Subraya la respuesta correcta.

1.- Localiza el **adverbio** de la siguiente frase:

La niña bebía rápidamente, porque tenía mucha sed.

- a) tenía.
- b) bebía.
- c) rápidamente.
- d) La niña.

2.- Son diferentes tipos de **adverbios**.

- a) Cortos, largos, medianos.
- b) Personales, impersonales, propios.
- c) De tiempo, de modo, de lugar.
- d) Dónde, cuándo, cómo.

3.- ¿Qué tipo de discurso se emplea en el siguiente texto?

Había una vez, un perro que se llamaba Resistol, Su amo le pregunto si podían salir a pasear, y el perro se puso tan contento que se cayó y se pegó.

- a) Discurso indirecto.
- b) Discurso directo.
- c) Ninguno de los dos.
- d) Ambos discursos.

4.- ¿Qué tipo de discurso se emplea en el siguiente texto?

El lobo le preguntó a Caperucita:

- ¿A dónde vas niña?
- ¡A ver a mi abuelita! – Contestó.

- a) Discurso indirecto.
- b) Discurso directo.
- c) Ninguno de los dos.
- d) Ambos discursos.

Lee el siguiente texto y responde las preguntas 5 y 6

Mi nombre es Daniel Pérez, **nací** en Colima y mis padres **nacieron** en Ciudad de México. Ahora vivimos en Guadalajara, ciudad de origen de mis abuelos paternos. Mis abuelos maternos viven en Hidalgo, donde **tenían** una tortillería, pero ahora tienen una tienda de abarrotes.

5.- ¿En qué tiempo verbal están las palabras **resaltadas** del texto?

- a) Pasado.
- b) Presente.
- c) Futuro.
- d) En ninguno.

6.- ¿En qué tiempo verbal están las palabras subrayadas del texto?

- a) Pasado.
- b) Presente.
- c) Futuro.
- d) d) En ninguno.

Lee el siguiente texto y responde la pregunta 7.

Campo con árboles, tenebroso y oscuro, camino con piedras, lugar peligroso, a lo lejos se observa una pequeña casa junto a un gran árbol donde cuelga un columpio roto.

7.- ¿Que se describe en el texto anterior?

- a) Una película de terror.
- b) El escenario de un cuento.
- c) El camino a la escuela.
- d) La casa de la maestra de cuarto grado

Subraya la respuesta correcta.

8.- Señala cual es la **metáfora** en la siguiente adivinanza.

Soy pequeño y blandito. Despacio siempre ando
y mi casa traigo cargando.

- a) Pequeño y blandito.
- b) Despacio siempre ando.
- c) Mi casa traigo cargando.
- d) Ninguna de las anteriores.

9.- Señala cual es el **juego de palabras** en la siguiente adivinanza:

Es la reina de los mares su dentadura es muy
buena, por no ir nunca vacía, siempre dicen que
va llena.

- a) Es la reina de los mares.
- b) Su dentadura es muy buena.
- c) Ir nunca vacía.
- d) Dicen que va llena.

10.- Observa la siguiente imagen y elige la **frase adjetiva**.



- a) Un hombre pasea un perro
- b) Un perro es paseado por un hombre.
- c) Un hombre muy alto y delgado pasea con un peludo y bonito perro.
- d) Un hombre anda paseando con un perro.

11.- ¿En el cuento de Caperucita Roja, que **adjetivos** describen correctamente al Lobo?

- a) Feroz, malo, astuto.
- b) Hermoso, bueno, amable.
- c) Delgado, bonito, dulce.
- d) Flojo, lento, tonto.

12.- Son ejemplos de verbos en infinitivo.

- a) Cocer, hervir, moler.
- b) Cuece, hierve, muele.
- c) Cocerá, hervirá, molerá.
- d) Coció, hirvió, molió.

13.- ¿Qué tipo de preguntas se pueden realizar en una encuesta?

- a) Preguntas personales.
- b) Preguntas abiertas y cerradas.
- c) Preguntas incómodas.
- d) Preguntas públicas.

14.- ¿Qué tipo de texto es el siguiente?

Nací el 17 de julio de 2010 en Morelia. Mi familia salió de la ciudad cuando yo tenía tres años de edad, **inicialmente** nos establecimos en Guadalajara Jalisco donde vivimos por tres años y rentábamos una casa. **Después** nos fuimos a Colima donde vivimos hoy. **Mientras** yo estudiaba mis padres trabajaron duro para comprar nuestra propia casa y dejar de pagar renta. **Actualmente** estudio en la Primaria Benito Juárez y curso el tercer grado. [...]

- a) Un cuento.
- b) Un relato autobiográfico.
- c) Un reportaje.
- d) Un artículo de divulgación científica.

Ética, naturaleza y sociedades Pág. 1

Subraya la respuesta correcta

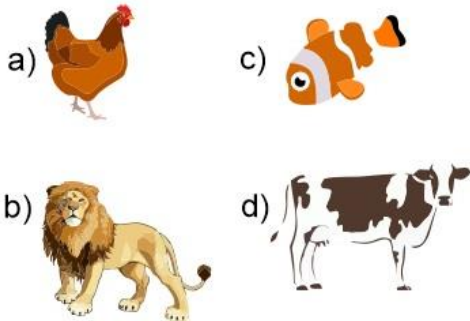
1.- Forma parte del cuerpo de los seres humanos y de algunos animales, como perros, gatos y aves. Otros animales carecen de él, como los gusanos.

- a) El cerebro.
- b) Brazos y piernas.
- c) El esqueleto.
- d) La sangre.

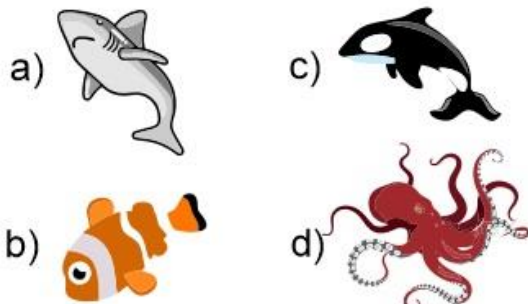
2.- Animales que se clasifican por comer la carne de otros animales.

- a) Herbívoros.
- b) Carnívoros.
- c) Omnívoros.
- d) Insectívoros.

3.- Elige el animal que es herbívoro.



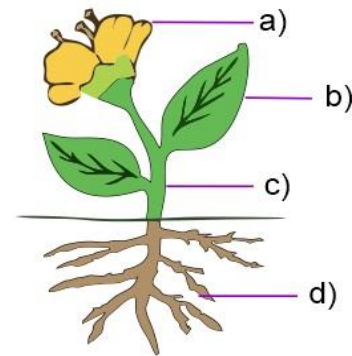
4.- Animal acuático que respira de manera similar a nosotros ya que tiene pulmones.



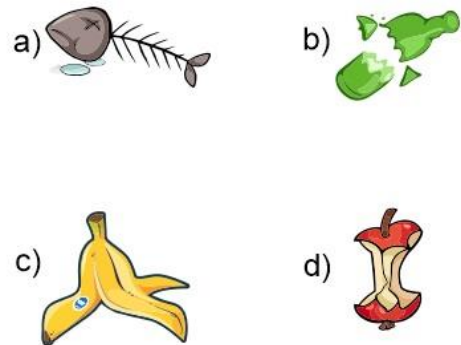
5.- ¿Cómo se les llama a las plantas que elaboran su propio alimento?

- a) Autótrofas.
- b) Heterótrofas.
- c) Omnívoras.
- d) Cocineras.

6.- ¿Con qué parte la planta absorbe el agua y las sales minerales para alimentarse?



7.- ¿Cuál de los siguientes es un desecho inorgánico?



8.- Son ejemplos de recursos naturales

- a) El aire, el agua, el viento, las plantas y los animales.
- b) La gasolina, el plástico, el papel.
- c) La tela, la electricidad, el azúcar.
- d) La ropa, los muebles, las computadoras.

Subraya la respuesta correcta

9.- Es la cantidad de materia que contienen los objetos.

- a) Volumen.
- b) Temperatura.
- c) Masa.
- d) Forma.

10.- Dispositivo que se utiliza para determinar la masa de los objetos.

- a) Metro.
- b) Balanza.
- c) Termómetro.
- d) Regla.



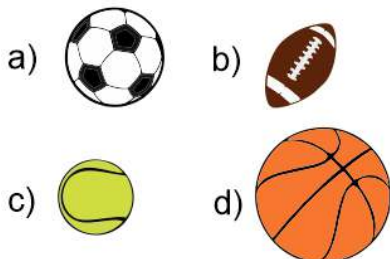
11.- Es la unidad más usada para medir la masa.

- a) Kilogramo (kg).
- b) Litro (L).
- c) Metro cúbico (m³).
- d) Grados Celsius (°C).

12.- Es el espacio que ocupan los objetos.

- a) Volumen.
- b) Temperatura.
- c) Masa.
- d) Forma.

13.- ¿Cuál de las siguientes pelotas tiene mayor **volumen**?



14.- Es la medida del calor de los cuerpos.

- a) Volumen.
- b) Temperatura.
- c) Masa.
- d) Forma.

15.- Es la unidad para medir la temperatura.

- a) Kilogramo (kg).
- b) Litro (L).
- c) Metro cúbico (m³).
- d) Grados Celsius (°C).

16.- ¿Cuál de los siguientes objetos tendría una temperatura **muy baja**?



17.- ¿En cuál de los siguientes casos **no** se aplica una fuerza?

- a) Cargar la mochila.
- b) Lanzar una pelota.
- c) Empujar una caja.
- d) Escuchar música.

18.- Es una unidad que se utiliza para medir la capacidad de los recipientes.

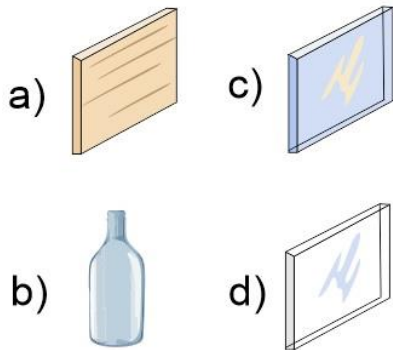
- a) Kilogramo (kg).
- b) Litro (L).
- c) Decibeles (dB).
- d) Grados Celsius (°C).

Subraya la respuesta correcta

19.- Objetos que **no** dejan pasar la luz y forman una sombra definida.

- a) Translúcidos.
- b) Transparentes.
- c) Opacos.
- d) Sólidos.

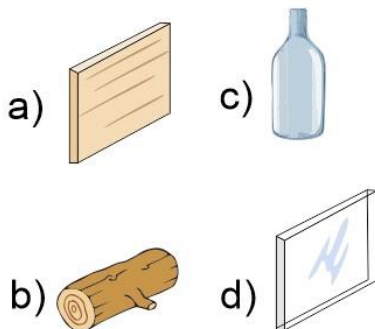
20.- De los siguientes objetos elige el **opaco**.



21.- Objetos que **dejan** pasar **parcialmente** la luz y producen una sombra muy tenue (sombra parcial).

- a) Translúcidos.
- b) Transparentes.
- c) Opacos.
- d) Sólidos.

22.- De los siguientes objetos elige el **translúcido**.



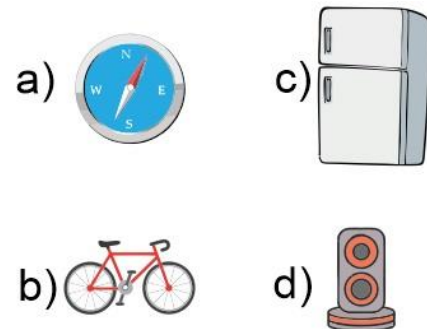
23.- Objetos que **dejan** pasar la luz **casi totalmente**.

- a) Transparentes.
- b) Translúcidos.
- c) Opacos.
- d) Sólidos.

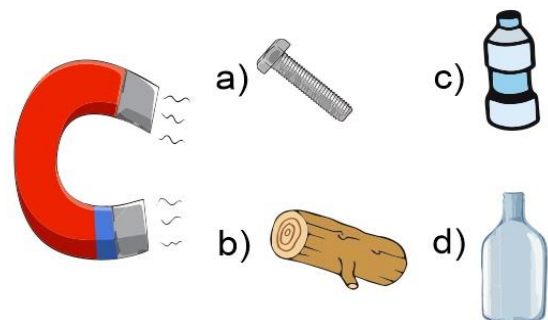
24.- Son los medios por los que viaja el sonido:

- a) por el aire, sólidos y líquidos.
- b) por los cables y postes.
- c) por las conexiones eléctricas.
- d) por las partículas de luz.

25.- ¿En cuál de los siguientes objetos **no** se utiliza el magnetismo?



26.- Elige el objeto que puede ser atraído por el imán.



De lo humano y lo comunitario Pág.1

Subraya la respuesta correcta.

1.- ¿Para qué sirven las vacunas?

- a) Para curar la diabetes.
- b) Para bajar de peso.
- c) Para prevenir enfermedades.
- d) Para curar enfermedades.

2.- ¿Cómo se llaman los sentimientos como la tristeza, el dolor, el miedo y la alegría?

- a) Valores.
- b) Enfermedades.
- c) Emociones.
- d) Sorpresas.

3.- ¿Qué quiere decir “manejar una emoción”?

- a) Evitar sentirla.
- b) Tratar de esconderla.
- c) Entenderla y expresarla adecuadamente.
- d) Buscar ayuda profesional.

4.- ¿Qué significa “ponerse una meta”?

- a) Pensar en algo que quiero, planear cómo lograrlo y definir cuándo lo llevaré a cabo.
- b) Realizar mis actividades diarias.
- c) Hacer una dieta.
- d) Alimentarse sanamente.

5.- ¿Qué es la justicia?

- a) Que el maestro no deje mucha tarea.
- b) Dar a cada quien lo que corresponde.
- c) Obtener lo que cada quien quiere.
- d) Realizar el trabajo que me corresponde.

6.- Nos permite elegir la manera de conducir nuestras vidas sin ser tratados como objeto para ser vendido o intercambiado.

- a) Justicia.
- b) Libertad.
- c) Soberanía.
- d) Valores.

7.- Es una actividad humana que requiere esfuerzo físico e intelectual y contribuye a la creación de satisfactores como productos y servicios:

- a) Dinero.
- b) Trabajo.
- c) Justicia.
- d) Libertad.

8.- Elige la situación donde se presenta discriminación.

- a) En la escuela Benito Juárez no permiten que las niñas jueguen fútbol.
- b) Los niños de cuarto grado no hacen fila para comprar en la cooperativa.
- c) Los papas de Miguel lo ponen a limpiar y asear su cuarto.
- d) En la tienda Soriana les pagan a hombres y mujeres el mismo salario.

9.- Es juzgar a las personas antes de conocerlas, sin darles la oportunidad de expresarse.

- a) Discriminación.
- b) Sentencia.
- c) Prejuicio.
- d) Racismo.

Subraya la respuesta correcta.

10.- ¿Qué significa la palabra *patrimonio*?

- a) “Lo que viene de los padres”
- b) “Casarse con el novio o novia”
- c) “Tener muchos empleados”
- d) “Ser empleado de una fábrica”

11.- ¿Qué elementos constituyen un patrimonio?

- a) El lugar donde vivimos, su historia y tradiciones.
- b) El dinero, un auto y la ropa.
- c) El trabajo el descanso y las vacaciones.
- d) La buena alimentación y el descanso.

12.- ¿Qué es la diversidad lingüística y cultural?

- a) Las tradiciones, costumbres, canciones, formas de celebrar bodas y nacimientos. Hablar muchas lenguas.
- b) Un país con muchos ciudadanos extranjeros.
- c) Hablar varios idiomas y viajar a muchos países.
- d) Conseguir un trabajo mejor pagado.

13.- ¿Qué son los bienes comunes que a todos conviene cuidar?

- a) La ropa que vestimos, el auto que usamos, la televisión que vemos.
- b) Caminos, carreteras, calles, servicio de agua, drenaje y electricidad.
- c) La variedad de animales y plantas de la naturaleza.
- d) El celular, la Tablet y la computadora.

14.- ¿Cuándo puede y debe cambiar una tradición o costumbre?

- a) Cuando ya ha pasado de moda.
- b) Cuando pone en peligro la salud, la libertad y el trato justo.
- c) Cuando cambian de presidente.
- d) Cuando hay problemas económicos.

15.- Es un ejemplo de tradición que afecta los derechos básicos de las personas.

- a) Preparación de alimentos muy laboriosos como el mole.
- b) Que los niños abandonen la escuela para trabajar y ayudar en el hogar.
- c) La celebración del día de muertos.
- d) La navidad y la celebración del día de reyes.

CicloEscolar.mx ® 2023-2024

Este examen fue elaborado exclusivamente para www.cicloescolar.mx.



Examen Diagnóstico Cuarto grado Ciclo escolar 2023-2024 por <https://www.cicloescolar.mx> se distribuye bajo una [Licencia Creative Commons Atribución-NoComercial-SinDerivadas 4.0 Internacional](https://creativecommons.org/licenses/by-nc-nd/4.0/).

Visita: <https://www.cicloescolar.mx>

Este examen fue elaborado exclusivamente para www.cicloescolar.mx.

Si utilizas estos materiales en tu página web deberás atribuir autoría a cicloescolar.mx

E incluir un código en el post o entrada donde compartes los materiales de cicloescolar.mx

```
<a href="https://www.cicloescolar.mx " >Exámenes de Primaria por  
CicloEscolar.mx</a>
```