

# 4 Grado



## Respuestas Evaluación Diagnóstica

Nombre del Alumno:

Grado:

Grupo:

Fecha:

Nombre de la Escuela:

MATERIA	REACTIVOS	ACIERTOS	CALIFICACIÓN
Saberes y pensamiento científico	20		
Lenguaje	14		
Ética, naturaleza y sociedades	26		
De lo humano y lo comunitario	15		

Firma del padre o tutor: \_\_\_\_\_

**Saberes y pensamiento científico** Pág. 1

Observa los precios de los artículos y responde las preguntas.



1.- Miguel compró:



¿Cuánto pagó?

- a) \$ 120 pesos.      c) \$ 93 pesos.  
b) \$ 121 pesos.      d) \$ 210 pesos.

3.- Lorena compró:



¿Cuánto pagó?

- a) \$ 96 pesos.      c) \$100 pesos.  
b) \$ 78 pesos.      d) \$ 87 pesos.

2.- Miguel pagó con \$200 pesos.

¿Cuánto le sobró?

- c) \$ 107 pesos.      c) \$ 79 pesos.  
d) \$ 80 pesos.      d) \$ 10 pesos.

4.- Lorena pagó con \$150 pesos.

¿Cuánto le sobró?

- a) \$ 65 pesos.      c) \$ 36 pesos.  
b) \$ 54 pesos.      d) \$ 45 pesos.

5 al 8.- Escribe el nombre del tipo de ángulo según corresponde.

recto

llano

agudo

obtuso



obtuso



recto



llano



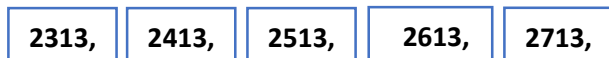
agudo

9.- Completa la siguiente sucesión.



Subraya la respuesta correcta.

10.- Indica cual es la regularidad de la siguiente sucesión numérica:



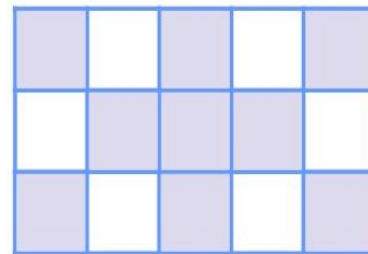
- a) Incrementa de 50 en 50
- b) Disminuye de 100 en 100
- c) Disminuye de 50 en 50
- d) Incrementa de 100 en 100

12.- ¿Qué número falta en la siguiente sucesión?



- a) 1283
- b) 1383
- c) 1574
- d) 1673

13.- ¿Qué fracción representa la parte sombreada de la siguiente figura?

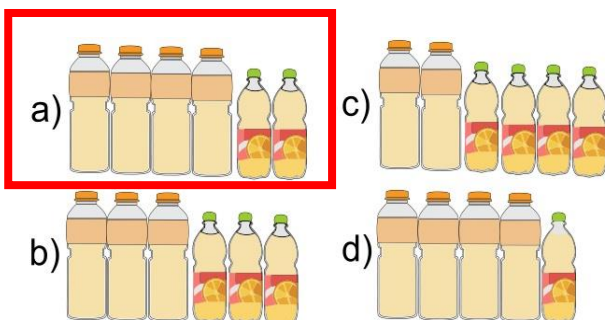


- a)  $\frac{3}{5}$  (tres quintos)
- b)  $\frac{3}{6}$  (tres sextos)
- c)  $\frac{8}{4}$  (ocho cuartos)
- d)  $\frac{9}{5}$  (nueve quintos)

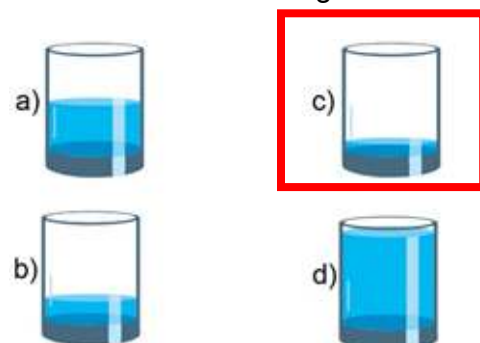
En la tienda de Don Pepe venden el jugo de naranja en estos envases:



11.- Elige la opción que representa 2 litros y  $\frac{1}{2}$  de jugo.



14.- Elige el vaso que contiene aproximadamente  $\frac{1}{8}$  de agua.



**Resuelve los problemas.***Saberes y pensamiento científico Pág. 3/3*

**15.-** Mariana tiene ahorrado 500 pesos y lo quiere repartir entre sus 4 hijos. ¿Cuánto le toca a cada uno?

- a) 180 pesos.
- b) 125 pesos.**
- c) 150 pesos.
- d) 200 pesos.

**16.-** Don Manuel tiene 120 pesos y los quiere repartir entre sus 6 sobrinos. ¿Cuánto le toca a cada uno?

- a) 15 pesos.
- b) 40 pesos.
- c) 20 pesos.**
- d) 30 pesos.

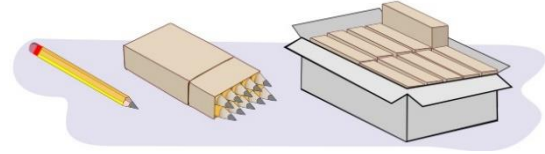
**17.-** En un campo hay 10 filas de árboles de manzana. Cada fila tiene 8 árboles. ¿Cuántos árboles hay en total?

- a) 18 árboles.
- b) 80 árboles.**
- c) 180 árboles.
- d) 10 árboles.

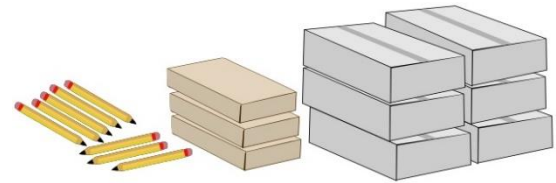
**18.-** Si cada árbol tiene 4 manzanas. ¿Cuántas manzanas hay en total?

- a) 320 manzanas.**
- b) 220 manzanas.
- c) 230 manzanas.
- d) 310 manzanas.

**19.-** En la papelería “La Escolar” venden **lápices sueltos, paquetes de 10** y en **cajas de 100 piezas.**



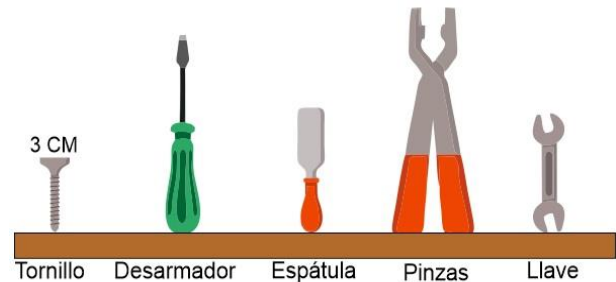
Si el mes de julio se vendió lo siguiente:



¿Cuántos lápices se vendieron en total?

- a) 448 lápices.
- c) 638 lápices.**
- b) 568 lápices.
- d) 245 lápices.

**Observa la imagen y responde.**



**20.-** ¿Qué objeto tendrá una longitud entre 7 y 8 cm?

- a) Desarmador.**
- c) Pinzas.
- b) Espátula.
- d) Llave.

**Lenguaje** Pág. 1

Subraya la respuesta correcta.

1.- Localiza el **adverbio** de la siguiente frase:

La niña bebía rápidamente, porque tenía mucha sed.

- a) tenía.
- b) bebía.
- c) **rápidamente.**
- d) La niña.

2.- Son diferentes tipos de **adverbios**.

- a) Cortos, largos, medianos.
- b) Personales, impersonales, propios.
- c) **De tiempo, de modo, de lugar.**
- d) Dónde, cuándo, cómo.

3.- ¿Qué tipo de discurso se emplea en el siguiente texto?

*Había una vez, un perro que se llamaba Resistol, Su amo le pregunto si podían salir a pasear, y el perro se puso tan contento que se cayó y se pegó.*

- a) **Discurso indirecto.**
- b) Discurso directo.
- c) Ninguno de los dos.
- d) Ambos discursos.

4.- ¿Qué tipo de discurso se emplea en el siguiente texto?

El lobo le preguntó a Caperucita:

- ¿A dónde vas niña?
- ¡A ver a mi abuelita! – Contestó.

- a) Discurso indirecto.
- b) **Discurso directo.**
- c) Ninguno de los dos.
- d) Ambos discursos.

Lee el siguiente texto y responde las preguntas 5 y 6

Mi nombre es Daniel Pérez, **nací** en Colima y mis padres **nacieron** en Ciudad de México. Ahora vivimos en Guadalajara, ciudad de origen de mis abuelos paternos. Mis abuelos maternos viven en Hidalgo, donde **tenían** una tortillería, pero ahora tienen una tienda de abarrotes.

5.- ¿En qué tiempo verbal están las palabras **resaltadas** del texto?

- a) **Pasado.**
- b) Presente.
- c) Futuro.
- d) En ninguno.

6.- ¿En qué tiempo verbal están las palabras subrayadas del texto?

- a) Pasado.
- b) **Presente.**
- c) Futuro.
- d) d) En ninguno.

Lee el siguiente texto y responde la pregunta 7.

Campo con árboles, tenebroso y oscuro, camino con piedras, lugar peligroso, a lo lejos se observa una pequeña casa junto a un gran árbol donde cuelga un columpio roto.

7.- ¿Que se describe en el texto anterior?

- a) Una película de terror.
- b) **El escenario de un cuento.**
- c) El camino a la escuela.
- d) La casa de la maestra de cuarto grado

**Subraya la respuesta correcta.**

8.- Señala cual es la **metáfora** en la siguiente adivinanza.

Soy pequeño y blandito. Despacito siempre ando y mi casa traigo cargando.

- a) Pequeño y blandito.
- b) Despacito siempre ando.
- c) **Mi casa traigo cargando.**
- d) Ninguna de las anteriores.

9.- Señala cual es el **juego de palabras** en la siguiente adivinanza:

Es la reina de los mares su dentadura es muy buena, por no ir nunca vacía, siempre dicen que va llena.

- a) Es la reina de los mares.
- b) Su dentadura es muy buena.
- c) Ir nunca vacía.
- d) **Dicen que va llena.**

10.- Observa la siguiente imagen y elige la **frase adjetiva**.



- a) Un hombre pasea un perro
- b) Un perro es paseado por un hombre.
- c) **Un hombre muy alto y delgado pasea con un peludo y bonito perro.**
- d) Un hombre anda paseando con un perro.

11.- ¿En el cuento de Caperucita Roja, que **adjetivos** describen correctamente al Lobo?

- a) **Feroz, malo, astuto.**
- b) Hermoso, bueno, amable.
- c) Delgado, bonito, dulce.
- d) Flojo, lento, tonto.

12.- Son ejemplos de verbos en infinitivo.

- a) **Cocer, hervir, moler.**
- b) Cuece, hierve, muele.
- c) Cocerá, hervirá, molerá.
- d) Coció, hirvió, molió.

13.- ¿Qué tipo de preguntas se pueden realizar en una encuesta?

- a) Preguntas personales.
- b) **Preguntas abiertas y cerradas.**
- c) Preguntas incómodas.
- d) Preguntas públicas.

14.- ¿Qué tipo de texto es el siguiente?

Nací el 17 de julio de 2010 en Morelia. Mi familia salió de la ciudad cuando yo tenía tres años de edad, **inicialmente** nos establecimos en Guadalajara Jalisco donde vivimos por tres años y rentábamos una casa. **Después** nos fuimos a Colima donde vivimos hoy. **Mientras** yo estudiaba mis padres trabajaron duro para comprar nuestra propia casa y dejar de pagar renta. **Actualmente** estudio en la Primaria Benito Juárez y curso el tercer grado. [...]

- a) Un cuento.
- b) **Un relato autobiográfico.**
- c) Un reportaje.
- d) Un artículo de divulgación científica.

**Ética, naturaleza y sociedades** Pág. 1

Subraya la respuesta correcta

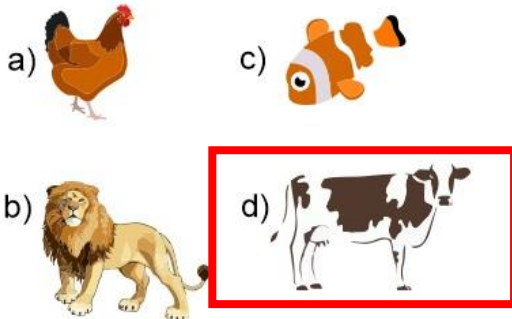
1.- Forma parte del cuerpo de los seres humanos y de algunos animales, como perros, gatos y aves. Otros animales carecen de él, como los gusanos.

- a) El cerebro.
- b) Brazos y piernas.
- c) **El esqueleto.**
- d) La sangre.

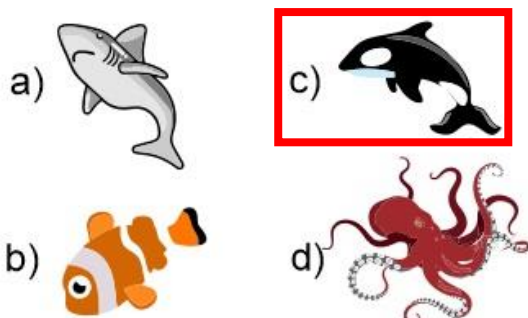
2.- Animales que se clasifican por comer la carne de otros animales.

- a) Herbívoros.
- b) **Carnívoros.**
- c) Omnívoros.
- d) Insectívoros.

3.- Elige el animal que es herbívoro.



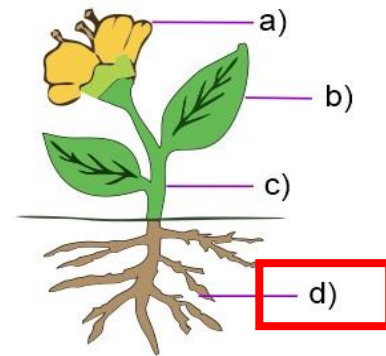
4.- Animal acuático que respira de manera similar a nosotros ya que tiene pulmones.



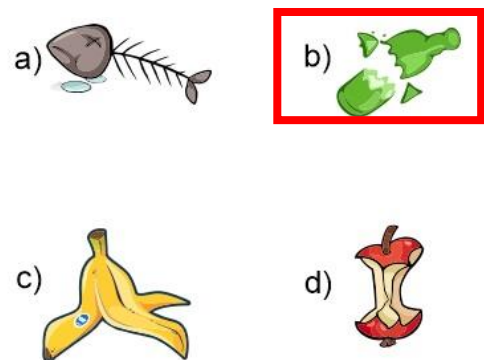
5.- ¿Cómo se les llama a las plantas que elaboran su propio alimento?

- a) **Autótrofas.**
- b) Heterótrofas.
- c) Omnívoras.
- d) Cocineras.

6.- ¿Con qué parte la planta absorbe el agua y las sales minerales para alimentarse?



7.- ¿Cuál de los siguientes es un desecho inorgánico?



8.- Son ejemplos de recursos naturales

- a) **El aire, el agua, el viento, las plantas y los animales.**
- b) La gasolina, el plástico, el papel.
- c) La tela, la electricidad, el azúcar.
- d) La ropa, los muebles, las computadoras.

**Subraya la respuesta correcta**

9.- Es la cantidad de materia que contienen los objetos.

- a) Volumen.
- b) Temperatura.
- c) **Masa.**
- d) Forma.

10.- Dispositivo que se utiliza para determinar la masa de los objetos.

- a) Metro.
- b) **Balanza.**
- c) Termómetro.
- d) Regla.




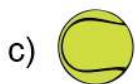
11.- Es la unidad más usada para medir la masa.

- a) **Kilogramo (kg).**
- b) Litro (L).
- c) Metro cúbico (m<sup>3</sup>).
- d) Grados Celsius (°C).

12.- Es el espacio que ocupan los objetos.

- a) **Volumen.**
- b) Temperatura.
- c) Masa.
- d) Forma.

13.- ¿Cuál de las siguientes pelotas tiene mayor **volumen**?



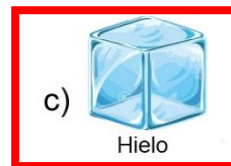
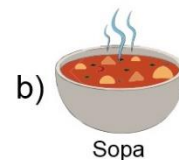
14.- Es la medida del calor de los cuerpos.

- a) Volumen.
- b) **Temperatura.**
- c) Masa.
- d) Forma.

15.- Es la unidad para medir la temperatura.

- a) Kilogramo (kg).
- b) Litro (L).
- c) Metro cúbico (m<sup>3</sup>).
- d) **Grados Celsius (°C).**

16.- ¿Cuál de los siguientes objetos tendría una temperatura **muy baja**?



17.- ¿En cuál de los siguientes casos **no** se aplica una fuerza?

- a) Cargar la mochila.
- b) Lanzar una pelota.
- c) Empujar una caja.
- d) **Escuchar música.**

18.- Es una unidad que se utiliza para medir la capacidad de los recipientes.

- a) Kilogramo (kg).
- b) **Litro (L).**
- c) Decibeles (dB).
- d) Grados Celsius (°C).

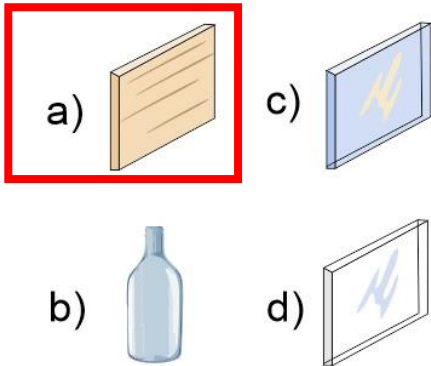


**Subraya la respuesta correcta**

19.- Objetos que **no** dejan pasar la luz y forman una sombra definida.

- a) Translúcidos.
- b) Transparentes.
- c) **Opacos.**
- d) Sólidos.

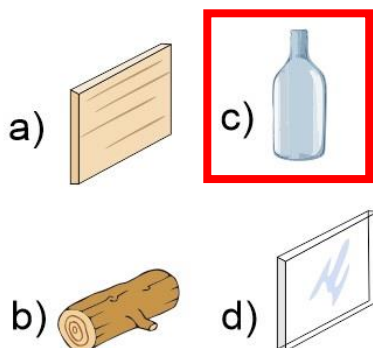
20.- De los siguientes objetos elige el **opaco**.



21.- Objetos que **dejan** pasar **parcialmente** la luz y producen una sombra muy tenue (sombra parcial).

- a) **Translúcidos.**
- b) Transparentes.
- c) Opacos.
- d) Sólidos.

22.- De los siguientes objetos elige el **translúcido**.



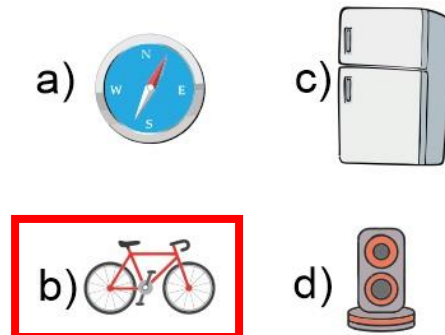
23.- Objetos que **dejan** pasar la luz **casi totalmente**.

- a) **Transparentes.**
- b) Translúcidos.
- c) Opacos.
- d) Sólidos.

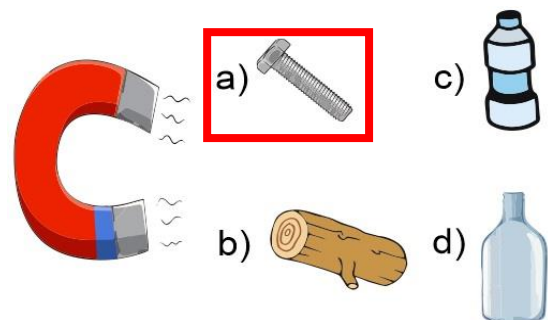
24.- Son los medios por los que viaja el sonido:

- a) **por el aire, sólidos y líquidos.**
- b) por los cables y postes.
- c) por las conexiones eléctricas.
- d) por las partículas de luz.

25.- ¿En cuál de los siguientes objetos **no** se utiliza el magnetismo?



26.- Elige el objeto que puede ser atraído por el imán.



**De lo humano y lo comunitario** Pág.1

Subraya la respuesta correcta.

- 1.- ¿Para qué sirven las vacunas?
- a) Para curar la diabetes.
  - b) Para bajar de peso.
  - c) **Para prevenir enfermedades.**
  - d) Para curar enfermedades.
- 2.- ¿Cómo se llaman los sentimientos como la tristeza, el dolor, el miedo y la alegría?
- a) Valores.
  - b) Enfermedades.
  - c) **Emociones.**
  - d) Sorpresas.
- 3.- ¿Qué quiere decir “manejar una emoción”?
- a) Evitar sentirla.
  - b) Tratar de esconderla.
  - c) **Entenderla y expresarla adecuadamente.**
  - d) Buscar ayuda profesional.
- 4.- ¿Qué significa “ponerse una meta”?
- a) **Pensar en algo que quiero, planear cómo lograrlo y definir cuándo lo llevaré a cabo.**
  - b) Realizar mis actividades diarias.
  - c) Hacer una dieta.
  - d) Alimentarse sanamente.
- 5.- ¿Qué es la justicia?
- a) Que el maestro no deje mucha tarea.
  - b) **Dar a cada quien lo que corresponde.**
  - c) Obtener lo que cada quien quiere.
  - d) Realizar el trabajo que me corresponde.
- 6.- Nos permite elegir la manera de conducir nuestras vidas sin ser tratados como objeto para ser vendido o intercambiado.
- a) Justicia.
  - b) **Libertad.**
  - c) Soberanía.
  - d) Valores.
- 7.- Es una actividad humana que requiere esfuerzo físico e intelectual y contribuye a la creación de satisfactores como productos y servicios:
- a) Dinero.
  - b) **Trabajo.**
  - c) Justicia.
  - d) Libertad.
- 8.- Elige la situación donde se presenta discriminación.
- a) **En la escuela Benito Juárez no permiten que las niñas jueguen futbol.**
  - b) Los niños de cuarto grado no hacen fila para comprar en la cooperativa.
  - c) Los papas de Miguel lo ponen a limpiar y asear su cuarto.
  - d) En la tienda Soriana les pagan a hombres y mujeres el mismo salario.
- 9.- Es juzgar a las personas antes de conocerlas, sin darles la oportunidad de expresarse.
- a) **Discriminación.**
  - b) Sentencia.
  - c) Prejuicio.
  - d) Racismo.

**Subraya la respuesta correcta.**

**10.- ¿Qué significa la palabra *patrimonio*?**

- a) “Lo que viene de los padres”
- b) “Casarse con el novio o novia”
- c) “Tener muchos empleados”
- d) “Ser empleado de una fábrica”

**11.- ¿Qué elementos constituyen un patrimonio?**

- a) El lugar donde vivimos, su historia y tradiciones.
- b) El dinero, un auto y la ropa.
- c) El trabajo el descanso y las vacaciones.
- d) La buena alimentación y el descanso.

**12.- ¿Qué es la diversidad lingüística y cultural?**

- a) Las tradiciones, costumbres, canciones, formas de celebrar bodas y nacimientos. Hablar muchas lenguas.
- b) Un país con muchos ciudadanos extranjeros.
- c) Hablar varios idiomas y viajar a muchos países.
- d) Conseguir un trabajo mejor pagado.

**13.- ¿Qué son los bienes comunes que a todos conviene cuidar?**

- a) La ropa que vestimos, el auto que usamos, la televisión que vemos.
- b) Caminos, carreteras, calles, servicio de agua, drenaje y electricidad.
- c) La variedad de animales y plantas de la naturaleza.
- d) El celular, la Tablet y la computadora.

**14.- ¿Cuándo puede y debe cambiar una tradición o costumbre?**

- a) Cuando ya ha pasado de moda.
- b) Cuando pone en peligro la salud, la libertad y el trato justo.
- c) Cuando cambian de presidente.
- d) Cuando hay problemas económicos.

**15.- Es un ejemplo de tradición que afecta los derechos básicos de las personas.**

- a) Preparación de alimentos muy laboriosos como el mole.
- b) Que los niños abandonen la escuela para trabajar y ayudar en el hogar.
- c) La celebración del día de muertos.
- d) La navidad y la celebración del día de reyes.

## CicloEscolar.mx ®

*Este examen fue elaborado exclusivamente para [www.cicloescolar.mx](http://www.cicloescolar.mx).*



Examen Diagnóstico Cuarto Ciclo escolar 2023-2024 grado por <https://www.cicloescolar.mx> se distribuye bajo una [Licencia Creative Commons Atribución-NoComercial-SinDerivadas 4.0 Internacional](https://creativecommons.org/licenses/by-nc-nd/4.0/).

Visita: <https://www.cicloescolar.mx>

*Este examen fue elaborado exclusivamente para [www.cicloescolar.mx](http://www.cicloescolar.mx).*

*Si utilizas estos materiales en tu página web deberás atribuir autoría a [cicloescolar.mx](http://cicloescolar.mx)*

*E incluir un código en el post o entrada donde compartes los materiales de [cicloescolar.mx](http://cicloescolar.mx)*

```
<a href="https://www.cicloescolar.mx " >Exámenes de Primaria por  
CicloEscolar.mx</a>
```