



Examen segundo trimestre

Ciclo escolar 2023-2024



1°



Material gratuito

Nombre del alumno: _____

Grado: _____ Grupo: _____

Fecha: _____

Escuela: _____

<i>Asignatura</i>	<i>Reactivos</i>	<i>Aciertos</i>	<i>Calificación</i>
Lenguajes	15		
Saberes y pensamiento científico	15		
Ética, naturaleza y sociedades	10		
De lo humano y lo comunitario	10		



Lenguajes

Lee el texto y responde las preguntas

La mariposa voló por los juegos de un parque, después llegó a la cuna del bebé Marcos en la casa de Carolina, ahí se quedó mirando al bebé.





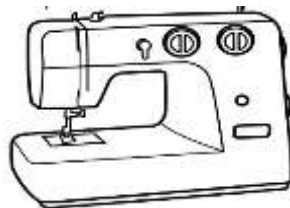
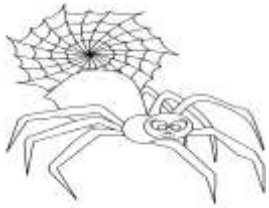
1. ¿Cuál era el nombre del bebé?

- A) Carolina B) mariposa C) Marcos

2. ¿A dónde pasó la mariposa antes de llegar a la casa de Carolina?

- A) bosque B) cuna C) parque

3-8. Escribe el nombre de las siguientes imágenes



9. Colorea a la niña de acuerdo a la descripción

La niña tiene cabello largo y negro, ojos grandes de color café, vestido rosa y zapatos amarillos.



10-11. Escribe el nombre de los que están señalados y participan en una obra de teatro de títeres.



12. Escribe una frase de cortesía que utilizas en tu salón de clases

13. Encierra los signos de interrogación

A) ¡! B) + - C) ¿ ?

14. Coloca en las líneas el signo correcto

____ Cómo estás el día de hoy ____

15. Escribe una frase con el siguiente dibujo

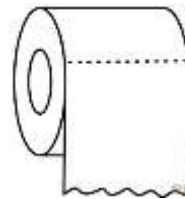
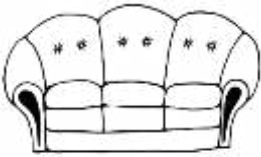


Saberes y pensamiento científico

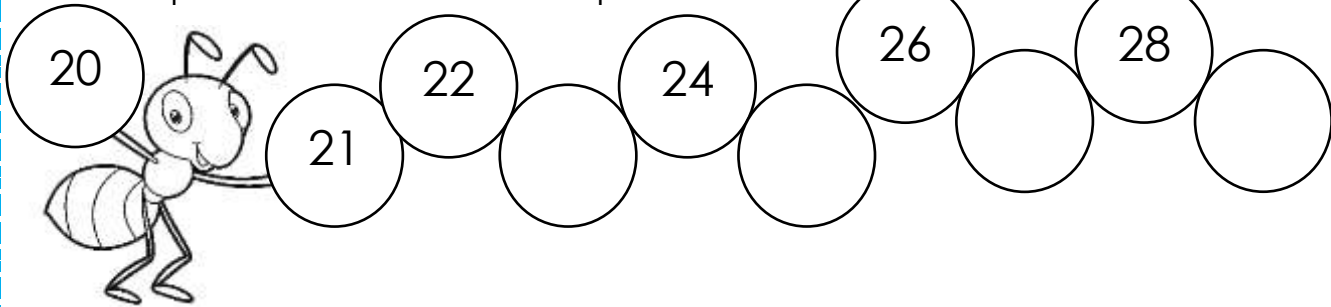
1. Encierra el objeto que sea más ligero



2. Encierra el objeto que sea más áspero



3-6. Completa con los números que faltan




7. ¿Qué tipo de trayectoria está siguiendo el carro?

- A) rectilínea B) curvilínea C) irregular




8. Encierra el objeto más pesado



9. ¿Qué característica del sonido puede ser agudo o grave?

- A) duración B) intensidad C) tono

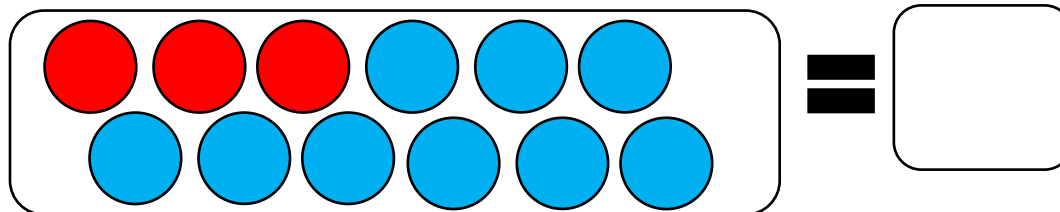
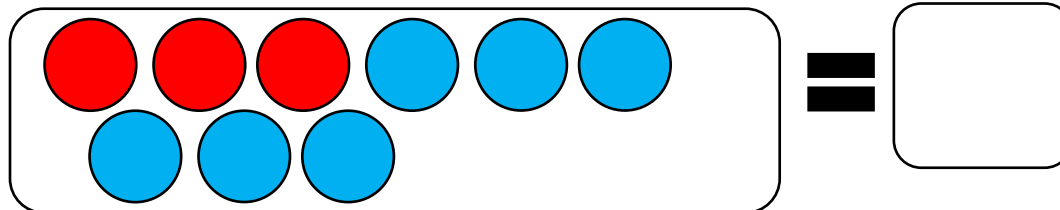
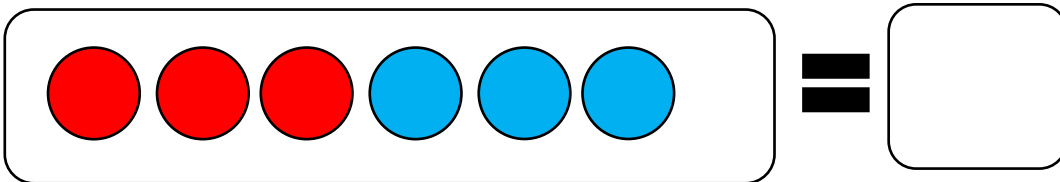
10. Dibuja un objeto que produzca sonido



11. Colorea el que produzca una mayor intensidad de sonido



12-14 Escribe la cantidad que se forma con las fichas rojas y azules

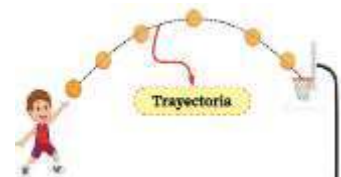


15. ¿Cuál es la trayectoria del balón?

A) rectilínea

B) curvilínea

C) irregular



Ética, naturaleza y sociedades

1. Es una actividad que requiere formación académica especializada

A) oficio

B) profesión

C) cultura

2. ¿Cuál de los siguientes es un oficio?



3. ¿Cuál de las siguientes es una profesión?



4. ¿Cuál de los siguientes es una autoridad de la casa?



5. Jorge y Joan están discutiendo en el recreo ¿Cuál de las siguientes autoridades ayudará a solucionar la situación?



6. ¿Cuál de los siguientes es una autoridad de la comunidad?




7. ¿Qué significa el siguiente símbolo?

- A) prohibido ir a clases B) prohibido correr C) correr**




8. Dibuja un lugar de riesgo de tu escuela

A large, empty rounded rectangular box for drawing a risk location in the school.

9. Es un espacio abierto a la reflexión sobre temas relevantes de la realidad social, donde un grupo de personas analizan un conflicto para solucionarlo a través de acuerdos

- A) mesa de primero B) mesa de diálogo C) mesa de maestros**

10. Dibuja a una persona a la que le tengas confianza y escribe su nombre

A large, empty rounded rectangular box for drawing a person and writing their name.

De lo humano y lo comunitario

1. Dibuja un beneficio del juego

A large, empty rectangular box for drawing a benefit of play.

2. María y Carmina están jugando avioncito, María dice que incluyan a Tomás y Gerardo, pero Carmina no quiere porque quiere el juego solamente para ella. Dibuja que harías para resolver la situación.

A large, empty rectangular box for drawing a solution to the conflict.

3. Dibuja una situación en la que hayas sentido miedo



4. ¿Cuál de las siguientes caras representa el enojo?



5. Arturo abrió su mochila y olió algo raro, cuando metió su mano sacó una torta que ya tenía ahí tres días y olía muy feo, le dieron muchas ganas de vomitar ¿Qué emoción sintió Arturo?

A) enojo

B) tristeza

C) asco

6. Mariam perdió \$1 y no puede comprar su torta porque traía el dinero exacto para comprarla, Roberto la vio llorar y le dio el peso que le faltaba para comprar su torta. Roberto actuó con:

A) empatía

B) tristeza

C) seguridad

7. ¿Qué emoción sientes cuando tus compañeros no te dejan jugar con ellos o no te eligen en su equipo?

A) alegría

B) tristeza

C) asco

8. La maestra de primer grado y sus alumnos se sentaron a platicar sobre el tema del trato justo a sus compañeros, algunos compañeros expresaron lo que sentían y tomaron acuerdos, lo que hicieron fue:

A) círculo de diálogo

B) obra de teatro

C) círculo de cuentos

9. Dibuja una situación en la cual hayas sentido empatía por alguno de tus compañeros o compañeras.



10. Sebastián iba caminando de su casa a la escuela, cuando de pronto salió un perro de una casa, le comenzó a ladrar y lo quería morder, Sebastián corrió y le gritó a su mamá, de inmediato llegó su mamá y ahuyentó al perro ¿Qué emoción crees que haya sentido Sebastián?

A) alegría

B) miedo

C) asco