



Examen segundo trimestre

Ciclo escolar 2023-2024



6°



Material gratuito

Nombre del alumno: _____

Grado: _____ Grupo: _____

Fecha: _____

Escuela: _____

<i>Asignatura</i>	<i>Reactivos</i>	<i>Aciertos</i>	<i>Calificación</i>
Lenguajes	15		
Saberes y pensamiento científico	15		
Ética, naturaleza y sociedades	15		
De lo humano y lo comunitario	15		



Lenguajes

Lee el siguiente texto y colorea el círculo de tu respuesta en la hoja de respuestas.

Si bien es cierto, la mayoría de los jóvenes estudiantes usan el celular como medio para sociabilizarse con otras personas en el contexto escolar, pero lo cierto es que no lo emplean con la responsabilidad adecuada, ya que estos móviles cuentan con reproductor de música, cámaras de videos, juegos entre otros, los cuales causan la completa distracción del estudiante en clase.

1

Según Bortnik S. (Guía para la crianza en un mundo digital, 2020). los celulares con conectividad son una fuente única de conocimiento. Históricamente los profesores tenían que planificar sus clases con la limitación de solo poder basarse en lo que los alumnos podían consultar en los libros de la clase, los teléfonos inteligentes han desvanecido esta limitación, y nos da acceso a una amplia variedad de fuentes que se pueden consultar.

2

Finalmente tener un teléfono móvil significa contar con más responsabilidad y poseer este medio en el ámbito escolar puede provocar robos o pérdidas, generando así no solo una mala imagen de la Institución Educativa sino también el mal comportamiento emocional por parte de los mismos alumnos.

3

En conclusión, el uso del teléfono celular en la escuela, debe estar prohibido y no puede ser aceptada dado que este no es un material de aprendizaje. Es nuestro deber como estudiantes asistir al colegio exclusivamente para aprender de forma adecuada y correcta.

1. ¿Qué tipo de texto es el que leíste?

A) argumentativo

B) descriptivo

C) literario

2. ¿Cuál párrafo incluye un argumento?

A) 1

B) 2

C) 3

3. ¿Qué es la palabra subrayada en el párrafo 3?

A) Adjetivo calificativo

B) conector lógico

C) preposición

4. ¿Cuál es la postura del autor respecto al uso de los celulares?

A) A favor del uso de celular en las escuelas

B) En contra del uso del celular en las escuelas

C) No tiene postura respecto al uso de celular en las escuelas

5. Lo subrayado en el párrafo 1 corresponde a:

A) Una opinión

B) una crítica

C) un argumento

6. Es una historia o narración breve de hechos imaginarios protagonizada por un grupo reducido de personajes y con un argumento sencillo:

A) Mesa de diálogo

B) Noticia

C) Cuento



7. Es un espacio abierto a la reflexión sobre temas relevantes, donde un grupo de personas analizan un conflicto para solucionarlo a través de acuerdos, decisiones y acciones:

A) Mesa de diálogo

B) Noticia

C) Cuento

8. ¿Cuál es el recurso literario que se ocupa en la siguiente frase: "Tus cabellos de oro"?

A) Metáfora

B) Analogía

C) Hipérbole

9. ¿Qué tipo de texto es el que se presenta en la imagen?

A) Fábula

B) mito

C) caligrama



10. Es un tipo de poesía donde se combinan los dibujos con las palabras, se escribe un _____ y a la vez se forma una figura y guarda relación con el tema:

A) poema

B) mito

C) leyenda

11. El poema es una composición literaria perteneciente al género de la poesía, se escribe en _____ y tiene _____:

A) Prosa, rima

B) Verso. Prosa

C) Prosa, rima

12. Es una discusión formal y organizada que se caracteriza por enfrentar dos posiciones opuestas sobre un tema determinado:

A) exposición

B) debate

C) noticia

13. Las palabras **Pero, aunque, como, por que**, son ejemplos de:

A) Analogías

B) Hipérbole

C) Conectores lógicos

14. ¿Cuál de las siguientes NO es una manifestación artística?

A) escultura

B) vandalismo

C) pintura

15. Es una expresión artística con la cual utilizas tu cuerpo para expresarte:

A) arquitectura

B) literatura

C) danza

Saberes y pensamiento científico

1. Es un cambio que ocurre en las superficies de los objetos, cuando dos o más cuerpos entran en contacto o se frotan y luego se separan:

- A) dinámica** **B) estática** **C) eléctrica**

2. Es una forma de energía que se deriva de la existencia de cargas positivas y negativas:

- A) dinámica** **B) estática** **C) eléctrica**

3. Es la principal fuente para generación de energía eléctrica en México:

- A) Combustibles fósiles** **B) nuclear** **C) hidráulica**

4. En el mes de marzo Juan pagó un recibo de \$109.5 y en el mes de abril pagó \$289.78. ¿Cuánto pagó en total en ese bimestre?

- A) \$299.38** **B) \$ 389.28** **C) \$399.28**

5. La escuela "Felipe Neri" paga de luz mensualmente \$109.78. Si el pago se mantiene cada mes, ¿cuánto pagarán en total en un año?

- A) \$1 317. 36** **B) \$ 1 217.56** **C) \$ 1327.36**

6. Juan compró un cuaderno de \$103. 50, también una memoria USB de \$89 y un lapicero de color de \$27. 75. ¿Cuánto pagó en total?

- A) \$132.14** **B) \$ 220.25** **C) \$192.5**

7. Instrumento que absorbe el calor y los rayos solares, mismos que transforman en energía que sirve en el hogar para encender lámparas:

- A) Panel solar** **B) calentador solar**

C) deshidratadores solares

8. ¿Cuál es el sistema que se encarga de defender al cuerpo humano de invasores como bacterias, hongos y virus, así como de sustancias extrañas que entren en él?

- A) Sistema muscular** **B) Sistema circulatorio** **C) Sistema inmunitario**

9. ¿Cuáles son las barreras primarias que tienen como propósito bloquear o impedir la entrada de patógenos?

- A) Glóbulos blancos** **B) piel o mucosas** **C) linfocitos**

10. Son ejemplos de enfermedades contagiosas, excepto:

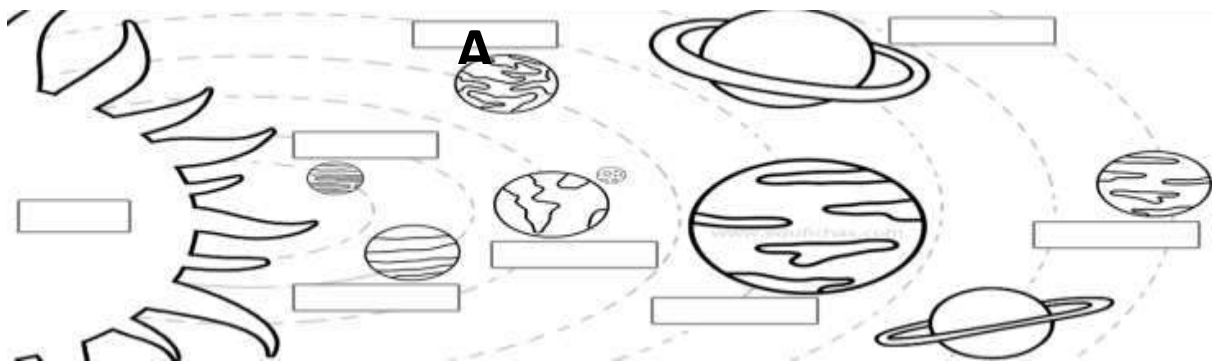
- A) diabetes B) influenza C) sarampión**

11. Es la limpieza o aseo para conservar la salud o prevenir enfermedades:

- A) higiene B) salud C) contagio**

12. Es una capa concentrada de gases que se mantiene alrededor de un planeta por la fuerza gravitatoria. En la Tierra los gases que la forman principalmente son nitrógeno, oxígeno, argón y dióxido de carbono:

- A) gravedad B) Vía Láctea C) atmósfera**



13. Observa la imagen anterior, ¿Cuál es el nombre del planeta señalado con la letra "A"?

- A) Tierra B) Marte C) Júpiter**

14. Las siguientes son características de los gases, excepto:

- A) Ocupan el volumen del objeto que los contiene
B) Se contraen si se enfrían
C) Tienen volumen propio**

15. ¿Cuál imagen representa la teoría heliocéntrica de Copérnico?

A)



B)



C)



Ética, naturaleza y sociedades

1. Es la característica que implica que todos los seres humanos pueden disfrutar de todos los derechos sin distinción alguna por motivos de raza, color, sexo, religión, opinión política o de cualquier otra índole:

- A) Igualdad B) Equidad C) Justicia

2. Las imágenes de la derecha corresponden a los _____ de los niños:

- A) deberes B) responsabilidades C) derechos



3. Personaje que fue presidente de nuestro país durante 35 años, contó con apoyo de políticos, militares, inversionistas, terratenientes y de la clase media. A su gobierno se le conoce como dictadura:

- A) Porfirio Díaz B) Venustiano Carranza C) Francisco I. Madero

4. Las siguientes son acciones que tomó el presidente de la República durante la dictadura, excepto:

- A) Censuró a la prensa B) Elaboró la Constitución Mexicana
C) Reprimió las protestas sociales

5. Movimiento inusual y súbito que ocurre en la corteza terrestre y llega a la superficie, lo que genera vibraciones perceptibles:

- A) vulcanismo B) sismo C) inundación

6. Placa tectónica en la que se encuentra la mayor parte de la República Mexicana:

- A) Norteamericana B) Cocos C) de Rivera

7. Los huracanes, inundaciones, sismos y erupciones volcánicas son ejemplos de:

- A) Desastre natural B) desastre humano C) desastre antrópico

8. Es el tipo de discriminación que se basa en la etnia de las personas y a quienes por esta razón se les trata con inferioridad:

- A) ideología B) religiosa C) racismo

9. ¿Cuál de las siguientes NO es una institución que protege los derechos humanos?

- A) ONU B) SNDIF C) PEMEX

10. La siguiente imagen representa tu plan de acción ante un:

- A) sismo B) huracán C) guerra



11. Es la persona que construye títeres o los maneja:

- A) tema B) títere C) títritero

12. Es la diversidad biológica que existe en la Tierra, se compone de plantas, animales, hongos y microorganismos, así como de las condiciones que permiten la vida de los seres como las cadenas alimenticias o el ciclo del agua:

- A) cambio climático B) biodiversidad C) Regiones naturales

13. Son zonas formadas por grandes praderas con escasos árboles, temperaturas elevadas y su fauna está conformada por lagartos, escorpiones y camellos:

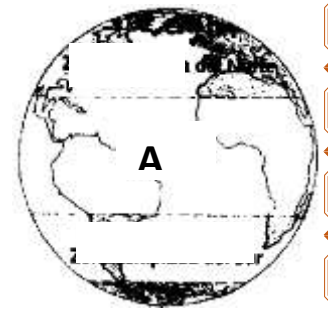
- A) bosque B) desierto C) taiga

14. Es la pérdida de la cubierta vegetal de las selvas y los bosques, generalmente causada por el ser humano para utilizar estos espacios como terrenos agrícolas, ganaderos o urbanos:

- A) cambio climático B) efecto invernadero C) deforestación

15. ¿Cuál es el clima que se encuentra señalado con la letra A?

- A) Tropical B) Templado C) Polar



De lo humano y lo comunitario

1. Es la habilidad adquirida para realizar una tarea específica de manera experta y efectiva después de la práctica y experiencia, por ejemplo tocar un instrumento musical:

- A) emociones B) destreza C) consciencia

2. Es una práctica que consiste en dar un trato desfavorable o de desprecio inmerecido a determinada persona o grupo:

- A) Discriminación** **B) Convivencia** **C) Diversidad cultural**

3. ¿Cuál de los siguientes es un estereotipo?

- A) Los niños deben jugar con carritos y las niñas con muñecas**
B) Niños y niñas son inteligentes
C) Niños y niñas pueden ayudar en actividades de la casa

4. ¿Cuál de los siguientes es un ejemplo de estereotipo de género?

- A) Los niños de tercer grado juegan basquetball a la hora de recreo**
B) Los niños no pueden ocupar el color rosa porque es un color de niñas
C) Los niños no pueden comer comida chatarra

5. ¿Qué tipo de texto es el siguiente?

- A) Recetario**
B) Obra de teatro
C) Manual de juegos

6. ¿Cuál de los siguientes es un verbo en imperativo?

- A) salta** **B) correr** **C) gritó**

7. ¿Cuál de los siguientes es un ejemplo de actividad física?

- A) Jugar videojuegos** **B) saltar la cuerda** **C) ver televisión**

8.- Son beneficios de la actividad física, excepto:

- A) mantiene tu peso corporal adecuado**
B) ayuda a estar de buen humor
C) provoca ataques cardiacos

9. Es una herramienta visual creada por los expertos en nutrición para crear comidas saludables en relación con la cantidad y calidad de los alimentos a consumir:

- A) Jarra del buen beber** **B) Información nutrimental**
C) Plato del bien comer

10. ¿Qué es lo que se observa en la imagen?

- A) Jarra del buen beber** **B) Información nutrimental**
C) Plato del bien comer

Las cuatro esquinas

Materiales:

- Gis para dibujar en el piso
- 5 jugadores

Instrucciones:

1. Reunir a los jugadores.
2. Dibujar nuestro espacio de juego.
3. Explicarles en qué consiste el juego.
4. Colocamos en nuestras posiciones.
5. Jugar.



Tamaño de la porción 1/4 de taza (113 g)	
Porciones por envase 8	
Cantidad por porción	
Calorías 100	Calorías de las grasas 20
% de valor diario*	
Grasa total 2g	3%
Grasas saturadas 1.5g	7%
Grasas trans 0g	
Colesterol 10mg	3%
Sodio 460mg	19%
Total de carbohidratos 4g	1%
Fibra 0g	0%
Azúcares 4g	
Proteína 16g	
Vitamina A 0%	Vitamina C 0%
Calcio 8%	Hierro 0%

* Los porcentajes de valores diarios se basan en una dieta de 2 000 calorías.

11. Roberto le pegó a Isaias porque no le prestó su balón para jugar, ¿qué tipo de violencia se presentó en ese caso?

- A) psicológica** **B) de género** **C) física**

12. Es la poca o nula actividad física o movimiento:

- A) actividad física** **B) juego** **C) sedentarismo**

13. Las siguientes son enfermedades provocadas por la mala alimentación y la poca actividad física, excepto:

- A) obesidad** **B) sobrepeso** **C) miopía**

14. ¿Qué se presenta en la siguiente situación? Las mujeres y los hombres pueden votar para elegir a sus representantes políticos:

- A) discriminación de género** **B) igualdad de género**
C) racismo de género

15.- Es una idea, juicio u opinión de cómo es alguien antes de conocer a la persona o tratarla:

- A) estereotipo** **B) prejuicio** **C) equidad**

Nombre: _____

Hoja de respuestas

Lenguajes

- 01 (A) (B) (C)
- 02 (A) (B) (C)
- 03 (A) (B) (C)
- 04 (A) (B) (C)
- 05 (A) (B) (C)
- 06 (A) (B) (C)
- 07 (A) (B) (C)
- 08 (A) (B) (C)
- 09 (A) (B) (C)
- 10 (A) (B) (C)
- 11 (A) (B) (C)
- 12 (A) (B) (C)
- 13 (A) (B) (C)
- 14 (A) (B) (C)
- 15 (A) (B) (C)

Saberes y pensamiento científico

- 01 (A) (B) (C)
- 02 (A) (B) (C)
- 03 (A) (B) (C)
- 04 (A) (B) (C)
- 05 (A) (B) (C)
- 06 (A) (B) (C)
- 07 (A) (B) (C)
- 08 (A) (B) (C)
- 09 (A) (B) (C)
- 10 (A) (B) (C)
- 11 (A) (B) (C)
- 12 (A) (B) (C)
- 13 (A) (B) (C)
- 14 (A) (B) (C)
- 15 (A) (B) (C)

Ética, naturaleza y sociedades

- 01 (A) (B) (C)
- 02 (A) (B) (C)
- 03 (A) (B) (C)
- 04 (A) (B) (C)
- 05 (A) (B) (C)
- 06 (A) (B) (C)
- 07 (A) (B) (C)
- 08 (A) (B) (C)
- 09 (A) (B) (C)
- 10 (A) (B) (C)
- 11 (A) (B) (C)
- 12 (A) (B) (C)
- 13 (A) (B) (C)
- 14 (A) (B) (C)
- 15 (A) (B) (C)

De lo humano y lo comunitario

- 01 (A) (B) (C)
- 02 (A) (B) (C)
- 03 (A) (B) (C)
- 04 (A) (B) (C)
- 05 (A) (B) (C)
- 06 (A) (B) (C)
- 07 (A) (B) (C)
- 08 (A) (B) (C)
- 09 (A) (B) (C)
- 10 (A) (B) (C)
- 11 (A) (B) (C)
- 12 (A) (B) (C)
- 13 (A) (B) (C)
- 14 (A) (B) (C)
- 15 (A) (B) (C)

