

1

Grado

 **Ciclo Escolar**
2022 - 2023

EXAMEN TRIMESTRAL
BLOQUE II

Nombre del Alumno:

Grado: Grupo: Fecha:

Nombre de la Escuela:

MATERIA	REACTIVOS	ACIERTOS	CALIFICACIÓN
Matemáticas	30		
Español	29		
Conocimiento del Medio	29		
Vida Saludable	10		

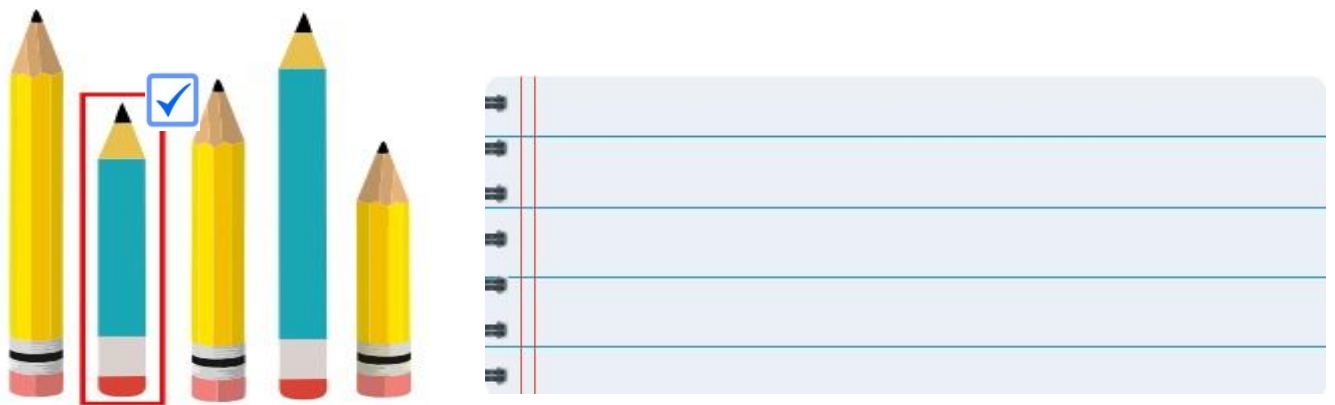
Firma del padre o tutor: _____

Observa la imagen.

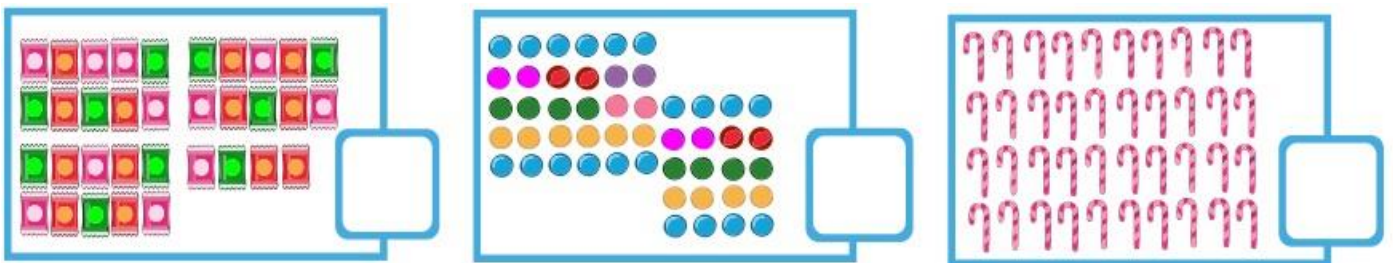
1 al 2.- Escribe los números del 1 al 5 para ordenar los listones empezando por el más corto.




3.- Describe qué lápiz está marcado con una palomita.






4 al 6.- Anota cuántos dulces hay en cada recuadro.



7 al 9.- Dibuja las figuras que faltan.






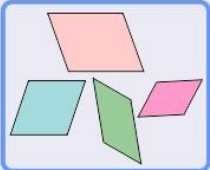
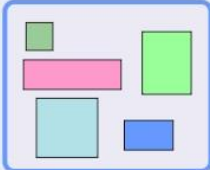
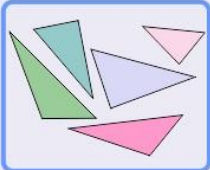
10 al 12.- Cuenta las fichas, escribe cuántas hay y cuántas faltan para completar la decena.

		
<input type="text"/> + <input type="text"/> = 20	<input type="text"/> + <input type="text"/> = 40	<input type="text"/> + <input type="text"/> = 50

13 al 15.- Anota a la derecha de cada número cuál es el resultado de sumarle 10.

24 16 8 40 10

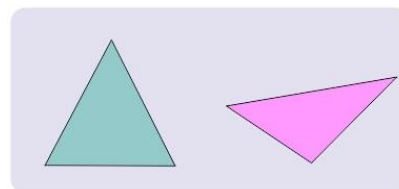
16.- Une con una línea a cada figura con el grupo al que pertenece.

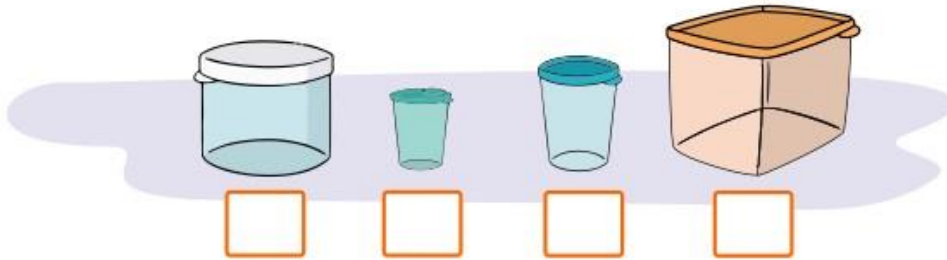
Marca con una la respuesta correcta.

17.- ¿Qué tienen en común las siguientes figuras?

- Son del mismo color.
- Las dos tienen tres lados.
- Las dos tienen cuatro lados.



18 y 19.- Escribe del 1 al 4 para ordenar los recipientes del que le cabe menos al que le cabe más.



20 y 21.- Anota los números que faltan.

	Empieza en el número	En los dados sale	Llega al número
	34		<input type="text"/>
	<input type="text"/>		45

22 y 23.- Dibuja los puntos que pudieron haber salido en los dados para llegar al número que se indica.

Estaba en el número	En los dados salió	Llegé al número	
20	<input type="text"/> <input type="text"/>	30	
43	<input type="text"/> <input type="text"/>	50	

24 y 25.- Compara los precios y responde las preguntas.

- ¿Cuál cuesta más? _____
- ¿Cuánto más? _____




Daniel compra  y paga con



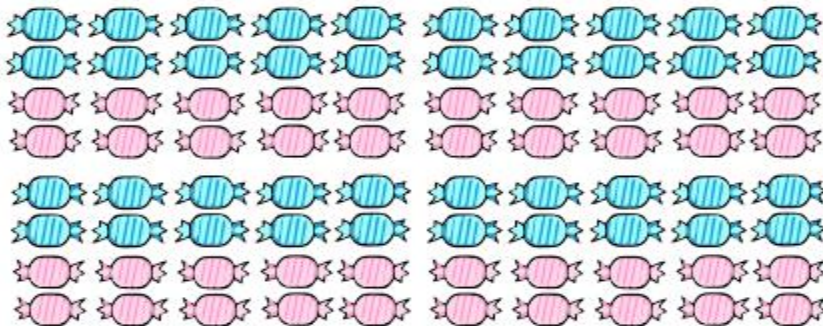
¿Cuánto recibe de cambio? _____

26 y 27.- Dibuja una marca por cada fruta que hay en la imagen; al final suma las marcas.

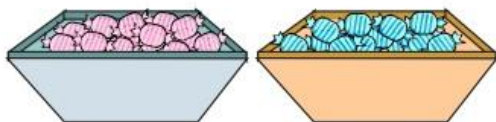


Fruta	Marcas	Total
		
		
		
		
		

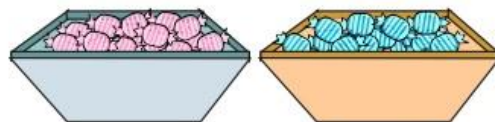
28.- Cuenta los dulces y escribe cuántos son.



29 y 30.- ¿Cuántos dulces hay en cada caja para que cada par sume 100?



$$\boxed{65} + \boxed{} = 100$$





$$\boxed{50} + \boxed{} = 100$$

1 y 2.- Adivina qué es y completa las palabras.

- Es un animal que ladra y empieza con **pe**_____.
- Sirve para poner los platos al comer y empieza con **me**_____.

3 al 6.- Encuentra las palabras y dibújalas. Observa el ejemplo.

Jugoso		Hojalata		Baloncesto	
Jugo	Oso				
					

7 al 9.- Escribe el nombre completo de los niños. Manuel, María y Daniela.



Man_____



Da_____



Ma_____

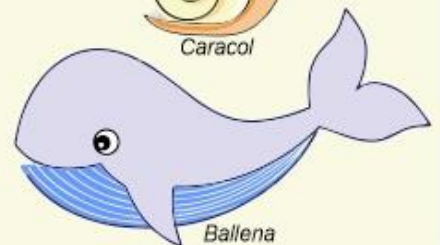
10 al 12.- Lee, adivina y escribe la respuesta:

- Soy pequeño y blandito. Despacito siempre ando y mi casa traigo cargando.

- En lo alto vive, en lo alto mora, en lo alto teje la tejedora.

- Es la reina de los mares su dentadura es muy buena, por no ir nunca vacía, siempre dicen que va llena.

- Tiene las orejas largas, tiene la cola pequeña. Si lo quieres agarrar saltando se va sin parar.



Lee con atención el siguiente texto.

(También puedes pedir a tu maestro que lo lea en voz alta).

Pedro y el lobo

Escenografía: La historia sucede en una pradera con pastizales y al otro extremo están las casitas de una aldea cercana.

Personajes: Pedro (pastor de ovejas), dos aldeanos y el lobo.

ESCENA 1 (Pedro estaba muy aburrido cuidando sus ovejas, pero hoy se le ocurrió algo para divertirse y regresó corriendo a la aldea)

PEDRO: (Asustado) ¡Socorro! ¡El lobo ataca a las ovejas! ¡Socorro, ayuda!

ALDEANO 1: (Mientras toman palos y piedras para defenderse del lobo) Tranquilo, Pedro, ¡nosotros te ayudaremos!

ALDEANO 2: (Llegando al campo donde pastan las ovejas de Pedro) ¿Y dónde está el lobo?

PEDRO: (Suelta una carcajada) ¡No hay lobo era broma!



Marca con una palomita la respuesta correcta.

13.- ¿Qué tipo de texto es el anterior?

Una escena de un guion de teatro.

Un cuento.

14 al 15.- Escribe las palabras.



Empieza con **co**, sigue con **ne** y termina con **jo**.



Empieza con **ma**, sigue con **le** y termina con **ta**.

Observa la imagen y lee su contenido.

(También puedes pedir a tu maestro que lo lea en voz alta).

¡LÁVATE LAS MANOS!

¿Cuándo?

- Antes de comer.
- Después de usar transporte público.
- Antes y después de ir al baño
- Después de jugar en la calle.
- Después de haber tocado animales.
- Antes de tocar a bebés.



¿Por qué?

Lavarse las manos elimina gérmenes y previene enfermedades.



Marca con una la respuesta correcta.

16.- ¿Qué representa la imagen anterior?

- Una revista.
- Una infografía.

Según la información que leíste:

17.- ¿Por qué es importante lavarse las manos?

- Para prevenir enfermedades.
- Para salir a jugar.

18 y 19.- Escribe las palabras:

- ¿Qué palabra empieza con **pa** y termina con **to**?



- ¿Qué palabra empieza con **ca** y termina con **sa**?



20 al 22.- Escribe palabras que terminen con:

des

mer

en

grandes

comer

duermen

23 y 24.- Escribe el nombre de personas y de cosas que comiencen con la letra de la primera columna.

Letra	Nombre	Cosas
L		
T	Tomás	Torre

Marca con una la respuesta correcta.

25 y 28.- ¿Qué medios se usan para enterarse de las noticias?

- Radio.
- Internet.
- Revistas.
- Periódicos.
- Televisión.
- Lavanderías.



29.- ¿Cuál de las siguientes frases corresponde a una noticia?

- Capítulo 2. Una serie de eventos desafortunados con el tío Montgomery
- Escena 1. Pedro entra corriendo gritando. ¡El lobo, el lobo! ¡Auxilio!
- Continúan las bajas temperaturas en el norte del país.

1.- Escribe el nombre de tu escuela.

Observa el dibujo y marca con una palomita la respuesta correcta

2.- ¿Qué actividad realizan?

- Una fiesta.
- Ceremonia de honores a la bandera.



3.- ¿Quiénes participan?

- La comunidad escolar.
- Solamente los maestros.

4.- Marca con una cuál de las siguientes acciones **no** corresponde a un **acuerdo de convivencia escolar**.



Trabajar en



Llegar puntual



Discutir con mis compañeros

5 al 7.- Marca con una palomita los alimentos del **Plato del Bien Comer**.



18 y 19.- Marca con una el significado de los siguientes símbolos.

Poner la basura en su lugar.

No tirar basura.



Zona para bailar.

Riesgo de resbalar.



20 y 21.- Marca con una las imágenes donde las personas cuidan y respetan las plantas.



Marca con una la respuesta correcta.

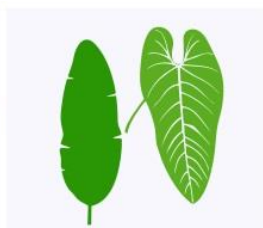
22 y 23.- ¿Qué necesitan las plantas para vivir?

Sabritas.

Agua.

Luz solar.

24.- ¿Qué criterio se utilizó para agrupar las hojas?






Su tamaño.

Su forma.

Su color.

25 al 27.- Une con una línea las actividades que se pueden hacer en cada edad.

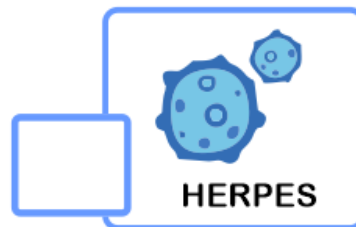


Jugar	<div style="border: 1px solid gray; padding: 5px; display: inline-block;">1 año</div> 
Ir a la escuela	
Gatear	<div style="border: 1px solid gray; padding: 5px; display: inline-block;">3 años</div> 
Subir escaleras	
Ir a la tienda	<div style="border: 1px solid gray; padding: 5px; display: inline-block;">5 años</div> 
Saltar	

28 y 29.- Escribe dos cosas que antes no podías hacer y ahora sí.



Marca con una palomita la respuesta correcta.

1.- ¿Qué enfermedad respiratoria es causada por el **coronavirus SARS-CoV-2**?



2 y 3.- ¿Qué estrategias se han implementado para combatir el **Covid-19**?



4 al 6.- Marca con una palomita las acciones útiles para prevenir el **Covid-19**



Marca con una palomita la respuesta correcta.

7 al 9.- Son algunos de los síntomas que puede causar la enfermedad **Covid-19**



Tos seca



Fiebre



Obesidad



Calor

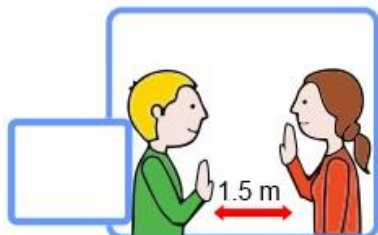


Dolor de garganta



Frio

10.- Es un ejemplo de **“Sana distancia”**







Este examen fue elaborado exclusivamente para www.cicloescolar.mx.



**Examen Trimestral Primer grado
Bloque II Ciclo escolar 2022-2023**

Elaborado por <https://www.cicloescolar.mx>

Se distribuye bajo una [Licencia Creative Commons Atribución-NoComercial-SinDerivadas 4.0 Internacional](https://creativecommons.org/licenses/by-nc-nd/4.0/).

Visita: <https://www.cicloescolar.mx>

Este examen fue elaborado exclusivamente para www.cicloescolar.mx.

Si utilizas estos materiales en tu página web deberás atribuir autoría a [cicloescolar.mx](http://www.cicloescolar.mx)

E incluir un código en el post o entrada donde compartes los materiales de [cicloescolar.mx](http://www.cicloescolar.mx)

```
<a href="https://www.cicloescolar.mx/2022/08/examenes-trimestrales-de-primaria-ciclo.html">Exámenes de Primaria 2022-2023 por CicloEscolar.mx</a>
```