

# 2 Grado



## Ciclo Escolar 2022 - 2023

### EXAMEN TRIMESTRAL BLOQUE II

Nombre del Alumno:

Grado:  Grupo:  Fecha:

Nombre de la Escuela:

MATERIA	REACTIVOS	ACIERTOS	CALIFICACIÓN
Matemáticas	29		
Español	25		
Conocimiento del Medio	24		
Vida Saludable	10		

Firma del padre o tutor: \_\_\_\_\_

Observa el calendario y responde las preguntas marcando con una palomita  la respuesta correcta.



**Maria**

OCTUBRE 2018 🎂						
Dom	Lun	Mar	Mié	Jue	Vie	Sab
	1	2	3	4	5	6
7	8	9	10	11	12	13
14	15	16	17	18	19	20
21	22	23	24	25	26	27
28	29	30	31			

NOVIEMBRE 2018						
Dom	Lun	Mar	Mié	Jue	Vie	Sab
				1	2	3
4	5	6	7	8	9	10
11	12	13	14	15	16	17
18	19	20	21	22	23	24
25	26	27	28	29	30	

DICIEMBRE 2018 🎂						
Dom	Lun	Mar	Mié	Jue	Vie	Sab
						1
2	3	4	5	6	7	8
9	10	11	12	13	14	15
16	17	18	19	20	21	22
23	24	25	26	27	28	29
30	31					



**Daniela**

1.- ¿Cuánto días pasaran del cumpleaños de María al cumpleaños de Daniela?

- 31 días     
  65 días     
  28 días

2 y 3.- De los siguientes acontecimientos, ¿cuál se coloca en el horario y cuál en el calendario?


Acontecimiento	Horario	Calendario
----------------	---------	------------

- |                                       |                          |  |                          |
|---------------------------------------|--------------------------|--|--------------------------|
| Educación física: Lunes y jueves 9:30 | <input type="checkbox"/> |  | <input type="checkbox"/> |
| La primavera inicia el 21 de marzo    | <input type="checkbox"/> |  | <input type="checkbox"/> |

4 al 7.- Resuelve las operaciones.

$100 + 10 = \square$	$200 + 100 = \square$
$100 + 4 = \square$	$900 + 100 = \square$

8 al 11.- Escribe los números que faltan en la recta numérica.




Observa el precio de los juguetes y responde las preguntas.



12.- Miguel compró un tambor y un oso. ¿Cuánto tuvo que pagar? \_\_\_\_\_

13.- Si tienes \$ 15, ¿cuánto más necesitas para comprar un carrito? \_\_\_\_\_



14 y 15.- Calcula el total de dulces y plátanos.



5 vasos y en cada vaso 4 dulces, son \_\_\_\_\_ dulces.

4 racimos y en cada racimo 3 plátanos, son \_\_\_\_\_ plátanos.

16 y 17.- Encierra en un círculo la **suma** con la que puedes hallar el total de dulces.



$5 + 5 + 5$

$3 + 5 + 3$

$3 + 3 + 3 + 3$

$3 + 4 + 3 + 4$

Resuelve los problemas.

18.- Luisa compró 4 paletas, cada una costó \$ 6. ¿Cuánto pagó en total?

$6 \times 4 =$

19.- Daniel compró 7 bolsas de dulces, en cada bolsa hay 5 piezas. ¿Cuántos dulces tiene en total?

$5 \times 7 =$

20 y 21.- Marca con una  la multiplicación con la que puedes calcular el total de galletas en cada charola. Considera las que están debajo de la hoja de papel.



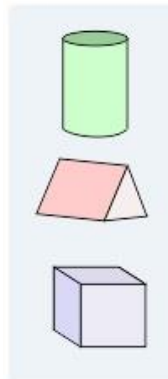
- 6x5
- 5x7



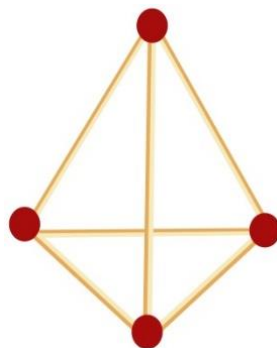
- 4x4
- 5x4

22 al 23.- Une con una línea el cuerpo geométrico con su descripción.

- Parece el techo de una casa.  
Tiene 2 triángulos y 3 rectángulos.
- Se parece a un rollo de papel higiénico.  
Tiene 2 círculos.
- Parece un cubo tiene 6 cuadrados.

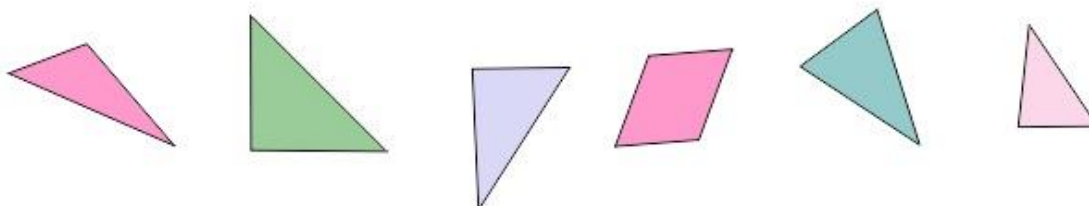


24 y 25.- ¿Cuántas aristas y cuántos vértices tiene la siguiente figura?

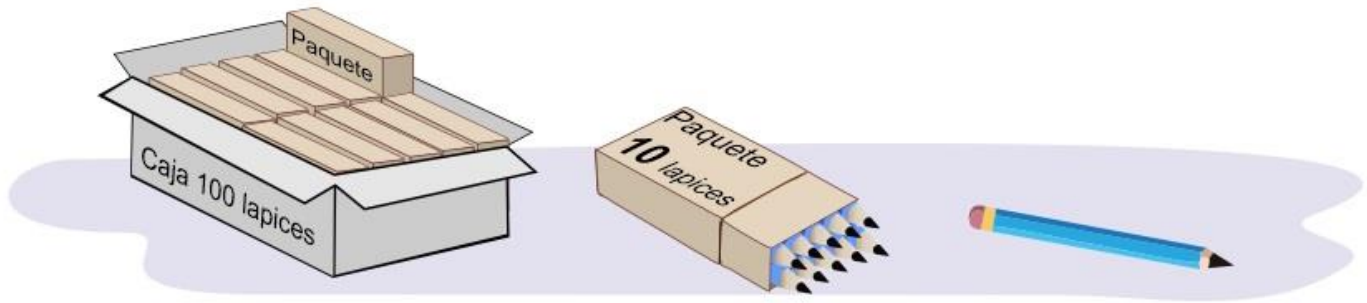


- Aristas
- Vertices

26.- Tacha la figura que consideres no pertenece al siguiente grupo.



En la papelería “Escolar” venden lápices y los entregan así:



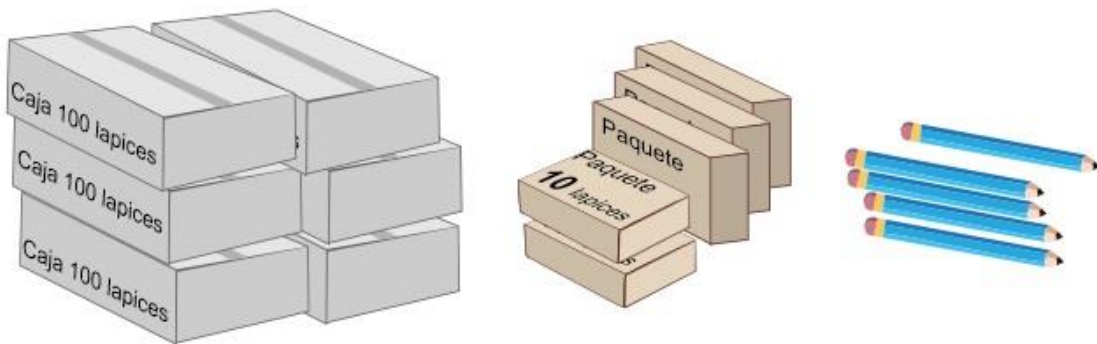
27.- Anota cuántas cajas, paquetes y lápices sueltos se necesitan para entregar: **725** lápices.

Cajas

Paquetes


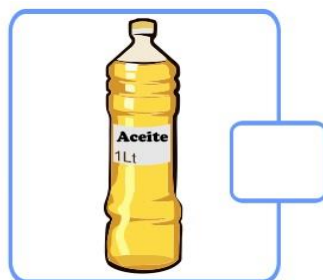
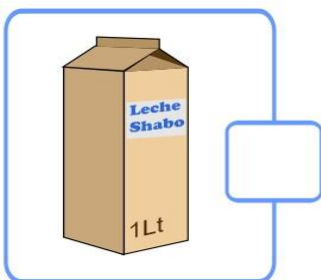
Lapices sueltos

Sofía compró lo siguiente:



28.- ¿Cuántos lápices compró en total?

29.- Marca con una palomita  los recipientes con la misma capacidad.



1 y 2.- Escribe los signos ¡! ¿? que hagan falta en las oraciones.

\_\_\_Quieres una manzana\_\_\_



\_\_\_Aleja esa cosa de aqui\_\_\_



Lee con atención el siguiente texto.

### Los chapulines: Una tradición ancestral Oaxaca

Por más de 1000 años los chapulines han sido parte de la gastronomía de México, especialmente del estado de **Oaxaca**, donde lo venden en todos los mercados. Se comen tostados, en tamales, en tacos, en quesadillas, en tlayudas o simplemente como botana, se sazonan con ajo, sal y limón y se acompañan con una salsa picante.

La palabra **chapulín** proviene del náhuatl y quiere decir: "Insecto que brinca como pelota de hule". Lo cocinaban los mexicas, zapotecas y mixtecas en el periodo prehispánico.

Los chapulines además de sabrosos son muy nutritivos pues aportan una gran cantidad de proteína sin grasas.



Marca con una palomita  la respuesta correcta.

3.- ¿Qué tipo de texto es el anterior?

- Una ficha informativa.
- Una invitación de lectura.

4.- ¿De qué trata la ficha informativa?

- De los chapulines utilizados como alimento.
- De los chapulines y sus características.



**5 al 8.- Resuelve las adivinanzas.**

- Soy pequeño y blandito. Despacito siempre ando y mi casa traigo cargando.

\_\_\_\_\_

- En lo alto vive, en lo alto mora, en lo alto teje la tejedora.


\_\_\_\_\_

- Es la reina de los mares su dentadura es muy buena, por no ir nunca vacía, siempre dicen que va llena.

\_\_\_\_\_

- Tiene las orejas largas, tiene la cola pequeña. Si lo quieres agarrar saltando se va sin parar.

\_\_\_\_\_



Lee el siguiente texto y responde las preguntas:

**“El Avestruz”**

Es el ave más grande y de mayor peso del mundo. Posee una cabeza pequeña y un largo cuello. Sus alas pequeñas no le permiten volar, pero es una gran corredora gracias a sus largas patas. Su plumaje es negro en los machos y gris en las hembras. Pueden vivir entre 30 y 40 años.

Viven en zonas áridas y semiáridas, ocupando espacios abiertos donde su altura le permite avistar los posibles depredadores. Los avestruces se alimentan de vegetales, frutas e insectos.



**9 al 11.-** Marca con una  la respuesta correcta.

**¿Cómo son los avestruces?**

- Tienen cabeza pequeña, cuello largo, alas pequeñas y largas patas.
- Tienen cabeza grande, cuello corto, alas grandes y largas.

**¿Qué comen los avestruces?**

- Carne, huevos y leche.
- Vegetales, frutas e insectos.

**¿Dónde viven los avestruces?**

- En el bosque y en la selva.
- En zonas áridas y semiáridas.

12 al 14.- Une con una línea el tipo de narración con su descripción.

Narración imaginaria en la que los animales tienen características humanas. Su propósito es dar una enseñanza o un consejo, que se incluye en una frase o mensaje llamado moraleja.

Leyenda

Narración popular de un hecho real o imaginario, en la que se explican sucesos importantes para una comunidad.

Fábula

Narración breve en la que un personaje enfrenta un problema que debe resolver.

Cuento


15 al 17.- Escribe las letras **r o rr** que faltan en cada palabra.



Pe\_\_ico



Pe\_\_a



Pe\_\_a



Pi\_\_ata

18 y 19.- Escribe dos palabras en las que el sonido de la "r" sea parecido a **rata** o **corre**.

Rata

\_\_\_\_\_

\_\_\_\_\_

20 y 21.- Escribe dos palabras en las que el sonido de la "r" sea parecido a **cara** o **mora**.

Cara

\_\_\_\_\_

\_\_\_\_\_



Marca con una  la respuesta correcta.

**22.- ¿Con cuál de las siguientes frases puede *iniciar* un cuento?**

- Y siguió corriendo por mucho tiempo.
- Érase una vez...
- Caminó, y caminó hasta que llegó al final del camino.

**23.- Es una frase que se usa para ir contando lo que ocurre en un cuento.**

- Cuando de repente...
- Y fueron felices para siempre.
- Érase que se era...

**24.- ¿Con cuál de las siguientes frases puede *terminar* un cuento?**

- Cuando menos lo esperaba llegó el lobo.
- Y colorín colorado, este cuento se ha acabado.
- Cuando llegó a ese lugar se puso muy feliz.

**25.- ¿Cuál de los siguientes diálogos está escrito correctamente?**

– *¿Dónde vas Caperucita?* – *Preguntó el lobo*  
– *A casa de mi abuelita* – *Respondió Caperucita.*

*Dónde vas Caperucita* *Preguntó el lobo*  
*A casa de mi abuelita* *Respondió Caperucita.*

1 al 3.- Escribe en cada recuadro el sonido que produce cada animal.








4.- Encierra el sentido que permite saber que sonidos producen los animales.



Olfato



Tacto



Vista



Oído




Gusto

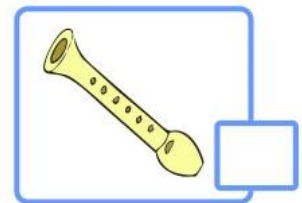
5 al 9.- Marca con una palomita  lo que se puede percibir con el sentido del oído.



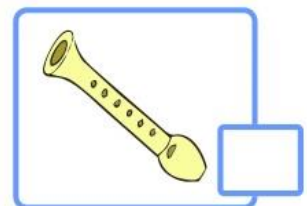
10.- Marca con una  el sonido agradable.



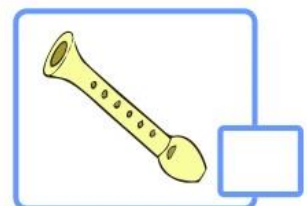
11.- Marca con una  el instrumento que produce sonido al **golpear**.



12.- Marca con una  el instrumento que produce sonido al **rasgar**.



13 y 14.- Marca con una  el instrumento que produce sonido al **soplar**.



15 al 18.- Describe brevemente cada tradición.



Día de muertos




Navidad





19 al 21.- Escribe el nombre de las plantas de acuerdo al grupo al que pertenecen: **Arboles, yerbas, o arbustos.**








22.- Marca con una  los animales que necesitan de las plantas.



23.- En el croquis, marca con una línea la ruta que seguirías para ir de la escuela a la casa de Juan.

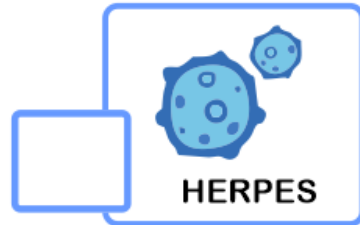


Miguel:  
 Camina por toda  
 la calle hasta  
 pasar el parque.  
 Cruza la calle y mi  
 casa es la de la  
 esquina derecha.



24.- Lee las indicaciones que Daniel escribió para Miguel. Y señala en el croquis dónde está la casa de Daniel.

Marca con una palomita  la respuesta correcta.

1.- ¿Qué enfermedad respiratoria es causada por el **coronavirus SARS-CoV-2**?



2 y 3.- ¿Qué estrategias se han implementado para combatir el **Covid-19**?



4 al 6.- Marca con una palomita  las acciones útiles para prevenir el **Covid-19**





Marca con una palomita  la respuesta correcta.

7 al 9.- Son algunos de los síntomas que puede causar la enfermedad **Covid-19**



Tos seca



Fiebre



Obesidad



Calor

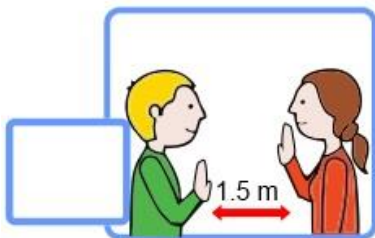


Dolor de garganta



Frio

10.- Es un ejemplo de **“Sana distancia”**





## CicloEscolar.mx ® 2022-2023

Este examen fue elaborado exclusivamente para [www.cicloescolar.mx](http://www.cicloescolar.mx).



**Examen Trimestral Bloque II**  
**Segundo grado Ciclo escolar 2022-2023**

Elaborado por <https://www.cicloescolar.mx>

Se distribuye bajo una [Licencia Creative Commons Atribución-NoComercial-SinDerivadas 4.0 Internacional](https://creativecommons.org/licenses/by-nc-nd/4.0/).

Visita: <https://www.cicloescolar.mx>

Este examen fue elaborado exclusivamente para [www.cicloescolar.mx](http://www.cicloescolar.mx).

Si utilizas estos materiales en tu página web deberás atribuir autoría a [cicloescolar.mx](http://www.cicloescolar.mx)

E incluir un código en el post o entrada donde compartes los materiales de [cicloescolar.mx](http://www.cicloescolar.mx)

```
<a href="https://www.cicloescolar.mx/2022/08/examenes-trimestrales-de-primaria-ciclo.html" >Exámenes de Primaria 2022-2023 por  
CicloEscolar.mx</a>
```