


¡CUADERNILLO



DE REPASO

SEGUNDO GRADO



LENGUAJES



SABERES Y PENSAMIENTO CIENTIFICO



DE LO HUMANO Y LO COMUNITARIO



ÉTICA NATURALEZA Y SOCIEDADES

LOS MATERIALES EDUCATIVOS




Lenguajes

Encierra en el abecedario la letra con la que inicia tu nombre.


El abecedario.

A B C D E F G H I J K L M N O P Q
R S T U V W X Y Z.



1. Escribe el nombre de un compañero o familiar que tenga la misma inicial que tu nombre: _____.

2. Daniel y Emilia respetan los reglamentos. Encierra de color azul las reglas del salón y de color rojo las reglas del hogar.



- No hablar con al boca llena de alimento.

- Levantar la mano para hablar.

- No saltar en las camas.

- Cuidar los libros de la biblioteca.

- Llegar puntualmente al salón.

- Ordenar los juguetes.

3. ¿Qué otra regla es importante en tu salón? Escríbela

Lee y contesta.

Salvemos a la mariposa monarca.

Cada otoño, después de un largo viaje, la mariposa Monarca llega a México para pasar el invierno, viajan desde Canadá para quedarse en los bosques de Michoacán.



Las mariposas adultas viven de cuatro a cinco semanas, pero cuando se acerca el otoño en Canadá, nace una generación especial de mariposas viajeras que vivirán hasta siete u ocho meses, algo así como vivir 525 años humanos.

El hogar de las mariposas monarca está en peligro, ya que cada año se cortan cientos de árboles de los bosques de esa región.

¡Qué increíble aventura! por eso debemos de proteger y cuidar los santuarios de la mariposa monarca ya que es un insecto en peligro de extinción.

https://www.wwf.org.mx/programas/mariposa_monarca/ 07 abril 2022.

Texto adaptado con fines didácticos MEyAD.

4. ¿Tú que harías para salvar el hogar de las mariposas monarca?

5. Elabora un cartel que ayude a proteger los bosques.

A large, empty rectangular box with a dashed border, intended for the student to draw a poster about protecting forests.

6. Escribe sobre la línea el nombre de la mariposa, para que rime la instrucción e inventa nuevas rimas escríbelas en tu cuaderno.



Dice la mariposa Berta
que te muevas dando vuelta.

Dice la mariposa Luisa
que muevas las manos deprisa.

Dice la mariposa _____
que saltes como rana.



7. Une con una línea la persona que representa el anuncio publicitario.

¡ALTO!

*Las abejas NO se matan,
se cambian de lugar.*

**Llámanos,
nosotros le ayudamos.
Somos apicultores
profesionales.
6144750461**




8. Contesta las siguientes preguntas.

¿Qué se anuncia? _____


¿Para qué sirve? _____

9. Busca información de cómo crece y se desarrolla la mariposa monarca, puedes usar libros, revistas, internet o preguntar a un adulto.

10. Escribe lo que pasaría.



Cómo sería la vida...
Con más árboles



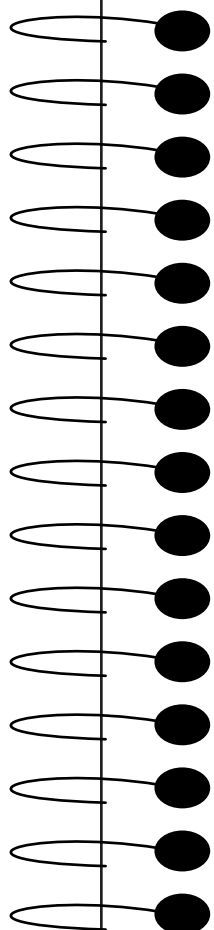





Cómo sería la vida...
Sin árboles

11. Selecciona una página de tu libro de lectura, léelo y disfrútalo. Completa el cuadro y dibuja lo que más te gustó.

El título de mi lectura es _____

_____.
Lo encontré en la página _____. Fue escrito por _____.
Lo recomiendo porque me gustó _____.

12. Ayuda a Francisco a hacer la lista de las compras, escribe en la línea la letra j o g, según corresponda.

	___ itomate	
	___ elatina	
	___ arabe	
	___ ugo	
	___ arra	



13. Escribe en tu cuaderno un cuento con las siguientes palabras y personajes, cuéntaselo a tus familiares.

Correr

Risos

Rincón

Tierra



14. Ordena del 1 al 5 las siguientes instrucciones para elaborar tu disfraz.

_____ Copia el antifaz en un cartón.

_____ Perfora a los lados para colocar la liga

_____ Colorea y decora como tu personaje favorito.

_____ Diviértete interpretando tu papel.

_____ Recorta el antifaz por la línea punteada.



15. Escribe los signos de puntuación que faltan en los enunciados.

_____ Auxilio una araña_____

_____ Cuál es tu pasatiempo favorito_____

_____ Ya casi es mi cumpleaños_____

_____ Qué tipo de mascota te gustaría tener_____

16. Pide a tu familia que te cuente una fábula, un cuento o una leyenda y escribe lo que más te gusto de ella.

Lee el siguiente texto y contesta el reactivo 1.



En la biblioteca de la escuela Independencia tienen un reglamento, el cual se elaboró con el fin de que los alumnos y maestros lo respeten y cumplan para llevar un control y cuidado de los libros.



Texto creado con fines didácticos MEAD.



1. ¿Cuál de las siguientes reglas ayuda al buen funcionamiento de la biblioteca?

- (A) Ingresar comida a la biblioteca para leer con más comodidad.
- (B) Colocar los libros en su lugar después de usarlos.
- (C) Dibujar y escribir en los libros.

Lee las siguientes instrucciones y contesta el reactivo 2.

Elabora un fichero doblando una hoja tamaño carta en cuatro partes, después con unas tijeras corta los lados que sean necesarios para que quede como un cuaderno pequeño. Finalmente con ayuda de algún familiar busca en tu diccionario las siguientes palabras.

• colmena • diálogo • anuncio • narrado
• fichero • estruendo • bilingüe • escalofriante

Recuerda acomodarlas en orden alfabético.

2. ¿Qué significa la palabra estruendo?

- (A) Ruido ligero y ensordecedor, especialmente el que se produce cuando se rompe o estalla una cosa.
- (B) Encuentro más o menos fuerte de dos o más cosas.
- (C) Ruido ligero que se produce al soplar una flauta.

3. Lee el siguiente texto informativo. Después escribe en los recuadros las características principales de este según corresponda.

Características del texto informativo		
Cierre	Introducción	Desarrollo

LA TIERRA

La Tierra es el planeta donde habitan los humanos y los animales. Podemos encontrar elementos como agua y plantas. Es el único planeta donde se conoce que hay vida, gracias a su atmósfera y las condiciones climáticas que lo permiten.

La Tierra es el tercer planeta y gira alrededor del sol durante todo un año, al mismo tiempo que gira sobre su propio eje. Esto quiere decir que en 365 días, es decir, un año o doce meses, la tierra gira al rededor del sol. Lo anterior produce cambios en el clima de los hemisferios a través de las estaciones (verano, primavera, invierno, otoño), entre otros fenómenos naturales.

Nuestro planeta gira sobre su propio eje durante 24 horas, lo cual forma un día. Cuando una cara de la tierra está frente al sol, hay sol en la tierra y es de día. A medida que va rotando, se va disminuyendo la luz en la tierra, asomándose el atardecer hasta que finalmente es de noche.

Es por la rotación que para unas personas es de día, mientras que en otro lugar es de noche, aunque sea el mismo planeta. Por ejemplo, si en Nueva York, son las 11:00 de la mañana, en Tokio, que está al otro lado del mundo son las 12 de la media noche y no hay luz solar.

www.aboutespanol.com
Consultado el 19/enero/2021
Texto adaptado para fines didácticos MEAD.

4. Escribe "mp" o "mb" para completar la palabra, según corresponda.




Mi abuela tiene una lá_____ara que utiliza petróleo como co_____ustible.



Es i_____ortante utilizar cubrebocas y lavarte la manos para co_____atir el coronavirus.

Mi papá tiene junta con sus co_____añeros en la e_____resa.



5. Elige la opción que contenga las siguientes palabras ordenadas alfabéticamente.

• escarabajo • panales • libro • lámpara • insecto • abeja • ardilla • zorro

- (A) abeja, ardilla, escarabajo, insecto, lámpara, libro, panales, zorro.
- (B) abeja, ardilla, escarabajo, insecto, libro, lámpara, panales, zorro.
- (C) ardilla, abeja, escarabajo, insecto, lámpara, libro, panales, zorro.

6. ¿Cuáles son las principales características de un cartel informativo?

- (A) Poco creativo, fácil de comprender, es de tamaño pequeño.
- (B) Creativo, con bastante información, con temas irrelevantes.
- (C) Fácil de visualizar, creativo, fácil de comprender.

Lee el siguiente texto y contesta los reactivos 7 y 8.

Te cuento que... Un instructivo es un conjunto de instrucciones o indicaciones que por lo general se presentan de manera escrita.

www.tugimnasiacerebral.com

Consultado el 19/01/2021

Texto adaptado para fines didácticos MEAD.


7. Escribe en los círculos el número que corresponda a cada una de las partes del siguiente instructivo.

1. Recursos gráficos 2. Procedimiento 3. Título 4. Materiales

000000000000

¿Cómo elaborar una máscara? ○ ○

- Molde de máscara
- Hoja de cartulina
- Colores
- Tijeras
- Cinta elástica
- Pegamento líquido
- Retazos de papel de colores



Primero dibuja en la cartulina el contorno de la máscara. Luego traza el contorno de los ojos y has dos agujeros, uno en cada extremo para anudar la cinta, recorta el contorno de la máscara y el de los ojos.

Luego decora la máscara a tu gusto y añade pegamento en el contorno para agregar trozos de papel de colores.

Anuda la cinta elástica en los agujeros que hiciste a los extremos de tu máscara. Sujétala a tu cabeza y, ¡listo!

Texto creado con fines didácticos MEAD.


8. **Elabora un instructivo de algo que quieras compartir con tus familiares. Dibuja o coloca una imagen que ayude a que tu instructivo sea más claro.**

9. **¿Cuál es una de las funciones principales de un anuncio publicitario?**

- (A) Respetar y cumplir con las reglas de la biblioteca escolar.
- (B) Dar a conocer y promover un servicio o producto.
- (C) Registrar el significado de palabras y frases.

Lee la siguiente copla y contesta el reactivo 10.

· Mi vecina la tortuga
· come y come todo el tiempo y todos los _____.
· Aunque a veces come orugas
· que están encima de las ramillas.



· En el parque _____
· con mis amigas las hormigas
· cantamos porque queremos
· que nos lleven de viaje a las _____.



www.ejemplos.com

Consultado el 20/enero/2021

Texto adaptado para fines didácticos MEAD.

10. ¿Qué palabras faltan en la copla anterior para que esté completa?

- (A) puentes, cocinamos, escuelas.
- (B) bebés, jugamos, esquinas.
- (C) días, cantamos, Indias.

11. Completa los siguientes enunciados con las sílabas que están en las burbujas.

je

jo

jin

jes

1. El cone_____ se alimenta de zanahorias.

ja

2. En mi mochila tengo unas ti_____ ras amarillas.

jo

3. En verano nos iremos de via_____ a la playa.

4. La lana de la ove_____ se utiliza para hacer tela.

je

5. En mi cama tengo un co _____ en forma de dinosaurio.

12. Escribe la palabra que completa cada oración.



Es una narración breve en la que un personaje enfrenta un problema que debe resolver, le llamamos _____.

El propósito de la _____ es dar una enseñanza o consejo, que se incluye en una frase o un mensaje llamado moraleja.

La _____ es una narración popular de un hecho real o imaginario, en la que se explican sucesos importantes para una comunidad.

13. ¿Cuál es la función de los signos de exclamación?

- A Se coloca en las oraciones que expresan sorpresa, alegría, tristeza, indignación, pesar.
- B Se coloca en las oraciones que requieren hacer una pregunta.
- C Se coloca en las oraciones para que se vea más bonito.

14. Selecciona la opción que contiene la respuesta de cada adivinanza.



Vuelo de noche, duermo en el día
y nunca veras plumas en ala mía.

No es cama ni es león, y
desaparece en cualquier
rincón. ¿Quién es?



A luciérnaga
lagartija

B mariposa
tortuga

C murciélago
camaleón

15. Investiga y escribe palabras como se indica en la tabla: R, r y rr.

Palabras con R	Palabras con r	Palabras con rr
Rocío	ratón	perro

16. Lee el siguiente poema y responde las preguntas.

Mariposa del aire,
qué hermosa eres,
mariposa del aire
dorada y verde.

Luz de candil,



mariposa del aire,
¡quédate ahí, ahí, ahí!
No te quieres parar,
pararte no quieres...

Mariposa del aire,
dorada y verde.

Luz de candil...



Mariposa del aire,
¡quédate ahí, ahí, ahí!
¡Quédate ahí!

Mariposa, ¿estás ahí?

¿Cuáles son las características de la mariposa?

¿Por qué la mariposa no se quedaba quieta?

¿Qué significa "luz de candil"?

Pregunta a un adulto qué quiso decir el autor con la frase "luz de candil".




1. Busca en tu casa un calendario y escribe lo que se pide.


Escribe los nombres de los meses que tienen 31 días.

2. Encierra en un círculo quién tiene más plumas.

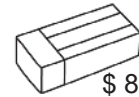
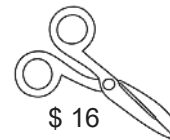
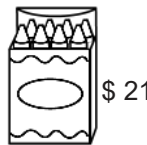
Rosa



Luis



3. Observa las imágenes y completa la tabla.



Tiene	Quiere comprar	Le alcanza	¿Cuánto le falta?	¿Cuánto le sobra?

4. Resuelve las operaciones.




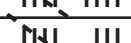
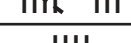
$99+1 =$

$100-1 =$

$39+10 =$

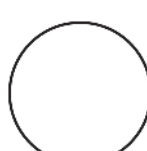
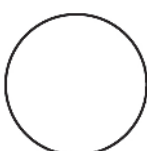
$11-1 =$

Observa la tabla y contesta lo que se pide.

Hojas de color	Registro	Cantidad
Rosas		13
Verdes		
Azules		
Amarillas		
Blancas		

5. ¿Cuál color de hoja es la preferida de los niños?

6. Escribe en cada círculo el número que falta.



7. Une con una línea según corresponda.



Tiene 6 lados iguales.

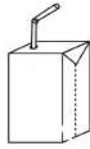


Tiene 4 lados iguales.

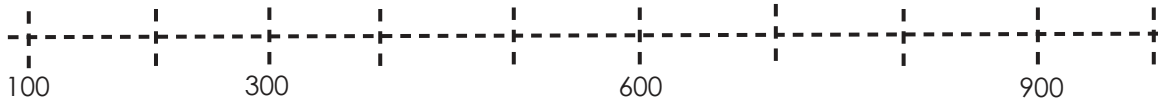


Tiene 3 lados, todos iguales.


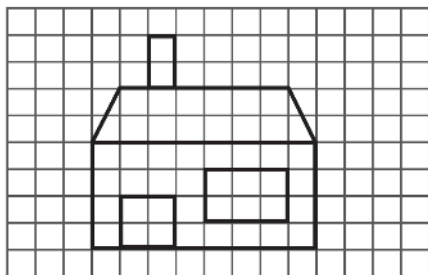
8. Encierra el objeto al que le cabe más y marca con una X al que le cabe menos.



9. Escribe en la recta numérica los números que faltan.



10. Copia la imagen en la otra cuadrícula.



11. Encierra la suma con la que puedes saber el total de los clips.



12. Dibuja la siguiente tabla en tu cuaderno y juega con alguien de tu familia a ver quien resuelve primero las operaciones.

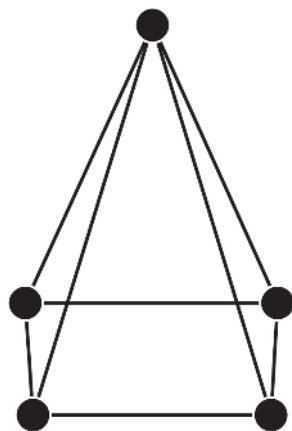
	-10	-5	-10	+1	+3
100					
125					
136					
112					
189					

13. Roberto tiene 3 bolsas con 3 naranjas cada una, ¿cuántas naranjas hay en total?

Total:

¿Qué hiciste para saberlo?

14. Observa la siguiente figura y contesta las preguntas.



¿Cuántos vértices hay? _____

¿Cuántas aristas tiene? _____

15. En una papelería tienen de ganancia \$395 pesos en billetes de \$100, monedas de \$10, y de \$1, dibuja tres formas diferentes en las que se puede tener esa cantidad.

16. Dibuja lo que se pide.

Objetos pesados

Objetos livianos






 MAYO 						
Domingo	Lunes	Martes	Miércoles	Jueves	Viernes	Sábado
						1
2	3	4	5	6	7	8
9	 Día de la madre	11	12	13	14	15
16	17	18	19	20	21	22
23	24	25	26	27	28	29
30	31					

1. El festival virtual para los maestros será una semana después del día de la madre. ¿En qué día de la semana los festejarán?

- A El 17 de mayo.
 B El 18 de mayo.
 C El 19 de mayo.

2. Mauricio le ayudó a su tío a hacer paquetes de 10 clavos, ¿Cuántos paquetes logró hacer si le dieron 67 clavos y cuántos quedaron sueltos?

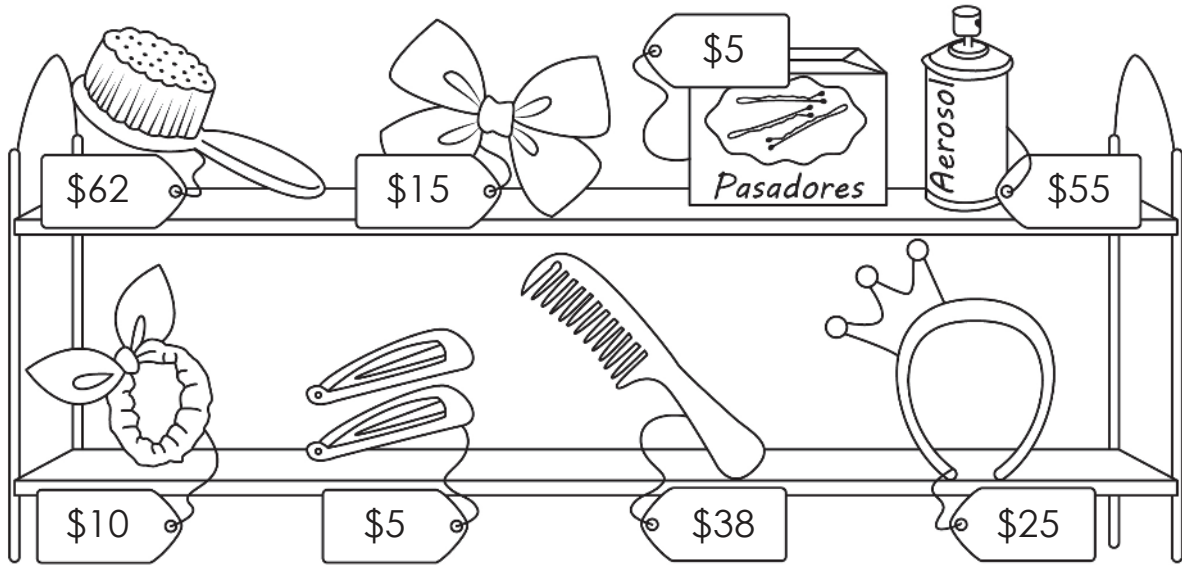
- A  7 y 6 sueltos.
 B  6 y 7 sueltos.
 C  8

3. Rellena los cuadros con los números que faltan y sobre las líneas los números que quedaron escondidos.

20							27		
			33			36			
	41						47		


Los números escondidos son: _____, _____, _____, _____, _____, _____, _____ y _____.

Lee y contesta el reactivo 4.




4. La tía de Andrea fue a cortarse el cabello. El corte le costó \$60, le compró unos regalos a su sobrina. Si pagó en total \$100 pesos. Escribe en cada bolsa que regalo pudo haber comprado.

Opción 1



Opción 2



Opción 3



Lee la tabla y contesta el reactivo 5.

Chocolate Literario 2°A y 2°B 		
Textos	Registros	Cantidad
Cuentos	### ### ### ###	20
Historietas	### ### //	12
Fábulas	### ### ###	15
Leyendas	### //	7

5. ¿Cuál es el tipo de texto que prefieren los alumnos de segundo grado para leer en el chocolate literario?

(A) Los cuentos.

(B) Las fábulas.

(C) Las leyendas.

6. Isaac compró 6 dulces para él y 4 para su hermana, cada dulce le costó \$2 pesos. ¿Qué operación le ayuda a calcular más rápido la cantidad que pagará?

(A) $6+4=\$10$ y $2+2+2+2+2+2+2+2+2+2=\$12$

(B) $6+4=10$ y $10 \times 2=\$20$

(C) $6-4=2$ y $2 \times 2=\$4$

7. Ana y su primo fueron a la tienda, calcula cuántos pasos dio cada uno.



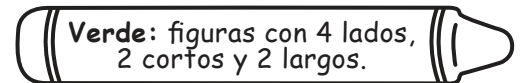
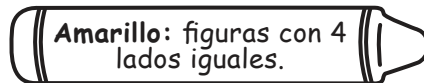
¿Quién dio más pasos para llegar a la tienda?

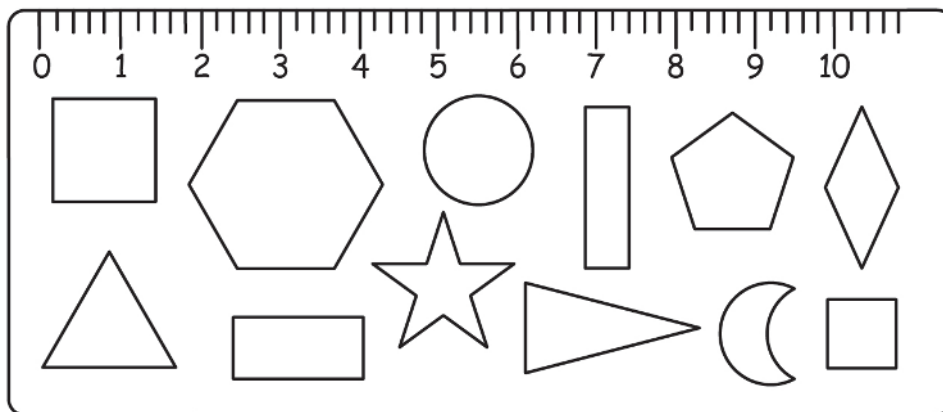
Primo

Ana

Tienda

8. Colorea las figuras según se indica y escribe su nombre sobre la línea.





9. Ángel cumple años en el mes que tiene menos de 30 días, ¿cuál es?

(A) mayo

(B) octubre

(C) febrero

10. Don Ignacio vendió dos paquetes con 100 tacos cada uno para un evento y cincuenta tacos sueltos en el restaurante. ¿Cuántos tacos vendió en total?

(A) 150 tacos.

(B) 250 tacos

(C) 700 tacos

11. Busca en tu casa tres recipientes que tengan capacidad menor a un litro y tres que tengan más de un litro. Dibújalos donde corresponde.

Más de un litro

Menos de un litro

12. Realiza las operaciones, encuentra la frase oculta y escríbela en la línea.

Palabras:

2. con

10. una

11. día

40. el

42. Comenzar

68. sonrisa.

$$\begin{array}{r} + 32 \\ 10 \\ \hline \end{array}$$

$$\begin{array}{r} - 50 \\ 10 \\ \hline \end{array}$$

$$\begin{array}{r} - 23 \\ 12 \\ \hline \end{array}$$

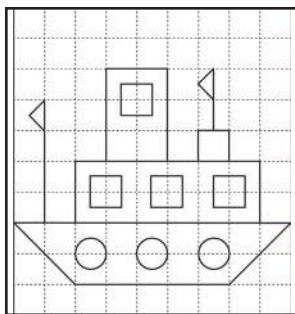
$$\begin{array}{r} - 12 \\ 10 \\ \hline \end{array}$$

$$\begin{array}{r} - 60 \\ 50 \\ \hline \end{array}$$

$$\begin{array}{r} + 43 \\ 25 \\ \hline \end{array}$$

Frase oculta:


Lee y contesta el reactivo 13.



13. ¿Qué figura se trazó 7 veces para dibujar el barco?

- (A) Los cuadriláteros. (B) Los triángulos. (C) Los círculos.


14. Mariana compró el doble de estas canicas con Don Aurelio, en total pagó \$25 pesos.



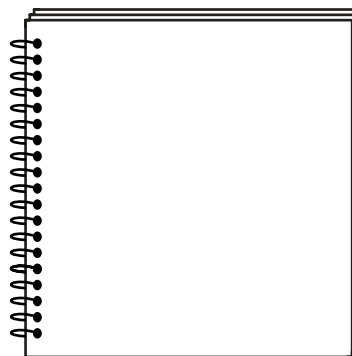
¿Cuántas canicas compró?

- (A) 20 canicas. (B) 25 canicas. (C) 40 canicas.

15. Dibuja las figuras geométricas según sus características.



Tiene 5 lados y 5 vértices.



Es una línea curva y no tiene lados.

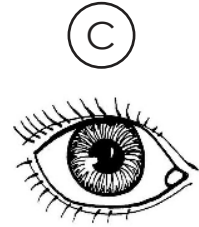
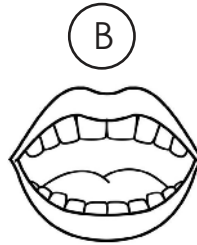
16. Mide con tus propios pasos la distancia de los siguientes lugares y compáralos con el de un adulto.

Yo

Adulto

- | | |
|-------------------------------------|-------------------------------------|
| • De tu casa a la del vecino: _____ | • De tu casa a la del vecino: _____ |
| • De tu cuarto a la cocina: _____ | • De tu cuarto a la cocina: _____ |
| • De la cocina a tu patio: _____ | • De la cocina a tu patio: _____ |

1. Elizabeth utiliza lentes de sol cuando va a la playa. ¿Cuál sentido se está protegiendo?



2. La hermana de Diego cumplirá 15 años en diciembre. ¿Cómo se celebraba antes esta tradición? Pregúntale a algún familiar.


- (A) Realizar un viaje familiar.
- (B) Presentarla como mujer adulta que estaba lista para casarse.
- (C) Hacer una fiesta de quinceañera con sus amigos más cercanos.

Lee y contesta el reactivo 3.

Jared fue al zoológico y su animal favorito fue la jirafa, ya que el guía les contó que es el animal más alto del mundo, puede llegar a medir más de 5 metros y sus patas son más grandes que un humano.

Consultado el 18/enero/2021
<https://www.oasysparquetematico.com/jirafas/>

3. Completa la ficha con lo que se pide.



Características:

- Tamaño: _____
- Manera de desplazarse: _____
- Tipo de alimentación: _____
- Vive en: África, praderas y sabanas.

Dato curioso: Es el animal que menos duerme.

4. Escribe por qué es importante plantar árboles y regarlos.



5. La familia de Tomás organizó un día de campo. Estas son algunas de las actividades que realizaron, ¿cuál es la acción que solo puede ocurrir de noche?


- (A) Ver las estrellas y la luna.
- (B) Contar historias de terror y hacer ejercicio.
- (C) Encender una fogata y desayunar en familia.

6. Selecciona la opción que es un derecho de los niños.

- (A) Entregarle mi tarea puntualmente al maestro o maestra.
- (B) Llevarme al doctor cuando me enfermo.
- (C) Comer la comida que yo quiera.

7. El abuelo de Diana tiene una colección de luchadores de plástico que vienen con un ring. Escribe o dibuja un juego de la actualidad.

Antes



Ahora



8. Pregúntale a un adulto cómo se jugaba con los luchadores.

¿Dónde se juega?

Materiales:

¿Qué reglas tiene ese juego? _____

9. La vecina de Laura tiene un perro, su mamá le contó que este tipo de perros son especiales porque sirven de guía para las personas que...


- (A) tienen dificultad para ver.
- (B) tienen dificultad para hablar.
- (C) tienen dificultad para escuchar.



10. En la estación que hace más calor, la familia Lozoya sale de vacaciones a la playa. ¿Cuál es?

- (A) Invierno
- (B) Verano
- (C) Primavera

11. Los abuelos de Arelí organizan posadas cada año en diferentes casas con sus vecinos, en fechas cercanas a Navidad. Escribe cómo ha cambiado esto con el tiempo y encierra la estación en la que sucede.



12. Cecilia tiene un pequeño huerto en su patio. Encierra los árboles, tacha los arbustos y colorea las hierbas.



Lee y contesta el reactivo 13.

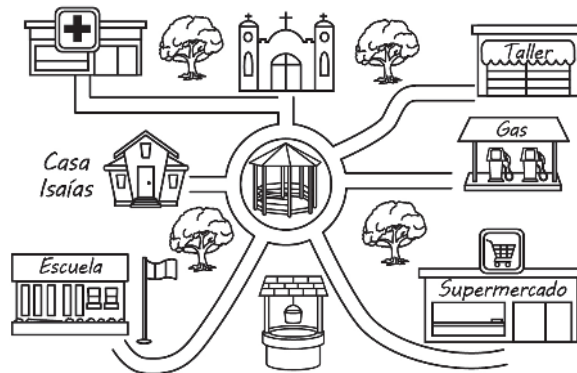
Animal nocturno al que muchas personas le temen, es muy importante porque acaba con las plagas de insectos que son peligrosos y también ayudan al proceso de polinización en la noche.

Consultado el 19/enero/2021
www.muyinteresante.es/naturaleza/

13. Elige el animal al que se refiere el texto anterior.

- (A) Un murciélago. (B) Una mariposa. (C) Un gusano.

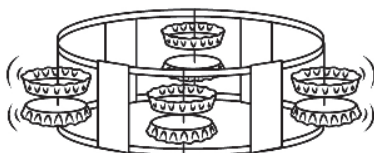
Observa la imagen y contesta el reactivo 14.



14. Isaiás y su mamá caminaron al supermercado saliendo del hospital. Encuentra el camino más corto.

- (A) Dieron vuelta en el kiosco, pasaron por la escuela y el pozo.
(B) Cruzaron por su casa, la escuela, el kiosco y llegaron.
(C) Pasaron por la iglesia, al kiosco y el pozo.

15. Mateo hizo un pandero. Explica en dos pasos cómo debe utilizarlo para que suene.



Paso 1.

Paso 2.

16. El domingo la familia Solís salió de paseo al museo donde vieron huesos de dinosaurios, luego al parque y al cine en la noche. Encierra los lugares en los que usaron voz baja.

Museo

Deportiva

Cine